



PEMERINTAH KABUPATEN MAGETAN
DINAS PENDIDIKAN, KEMUDAAN, DAN OLAH RAGA
SEKOLAH DASAR NEGERI REJOMULYO

Alamat: Jl. Raya Panekan-Jabung, Dkh. Dosi, Ds. Rejomulyo Kec. Panekan Kab. Magetan
Email: sdnrejomulyo.panekan@gmail.com Kode Pos: 63352

**PENILAIAN TENGAH SEMESTER 1
TAHUN PELAJARAN 2023/2024**

Nama Siswa : Tanggal : 21 Oktober 2023
Kelas : VI Nilai : Tema 3 Sesi 2
No. Absen : IPA (3.4) :
IPS (3.2) :
SBdP (3.2) :

Pilihlah jawaban yang paling benar!

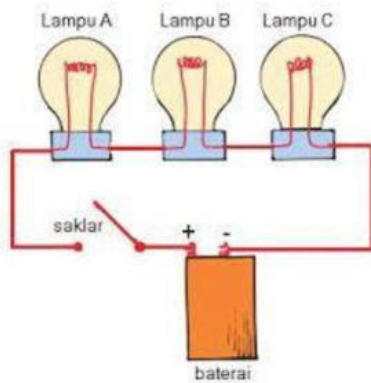
1. Arus listrik yang berfungsi untuk menyalurkan arus listrik dari satu tempat ke tempat lain adalah
 - a. Baterai
 - b. Saklar
 - c. Kabel
 - d. Resistor
2. Manfaat listrik bagi kehidupan kita diantaranya untuk
 - a. Memasak nasi menggunakan kompor gas
 - b. Menyalakan kipas angin
 - c. Membuat pembangkit listrik
 - d. Memasak air menggunakan kayu bakar
3. Manfaat gardu distribusi adalah tempat
 - a. Mengubah energi kinetik menjadi energi listrik
 - b. Menaikkan tegangan oleh generator
 - c. Menyalurkan energi listrik ke rumah-rumah
 - d. Menyalurkan energi listrik dari sutet ke gardu induk



Jika lampu 1 di putus, lampu yang mati adalah....

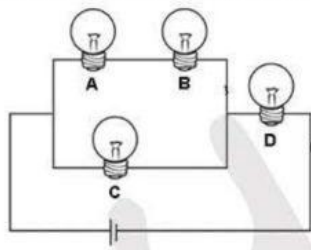
- a. Lampu 4
- b. Lampu 3
- c. Lampu 2
- d. Lampu 3 dan lampu 4

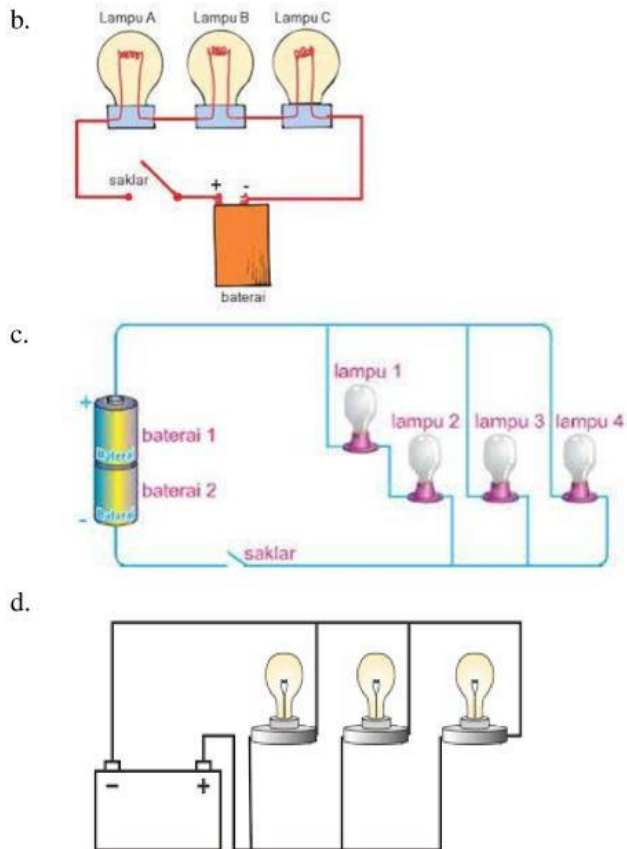
5.



Gambar di atas adalah sebuah contoh rangkaian listrik

- Paralel
 - Seri
 - Gabungan
 - Kombinasi
6. Salah satu kekurangan rangkaian listrik paralel adalah
- Jika salah satu lampu mati maka lampu yang lain masih menyala
 - Distribusi energi listrik merata
 - Meningkatkan arus listrik
 - Membutuhkan lebih banyak kabel
7. Berikut keuntungan rangkaian seri, kecuali
- Lebih hemat
 - Membutuhkan sedikit kabel
 - Apabila terjadi kerusakan lebih mudah untuk memeriksanya
 - Membutuhkan lebih banyak kabel
8. Salah satu ciri rangkaian paralel adalah
- Disusun secara bercabang
 - Cahaya lampu lebih terang
 - Jika salah satu lampu mati, yang lain ikut mati
 - Hambatannya lebih besar
9. Rangkaian listrik yang hanya memiliki satu jalur disebut rangkaian listrik
- Paralel
 - Kombinasi
 - Seri
 - Gabungan
10. Berikut yang bukan merupakan rangkaian listrik paralel adalah
-





11. Manfaat internet adalah
 - a. Pencurian data melalui media sosial
 - b. Penipuan melalui aplikasi keuangan
 - c. Munculnya sikap individualis
 - d. Memudahkan mencari referensi atau pengetahuan
12. Perubahan sosial akibat perkembangan teknologi adalah
 - a. Masyarakat yang tidak tertarik menggunakan internet
 - b. Sulitnya berkomunikasi dengan saudara yang jauh
 - c. Mudahnya pemesanan jasa melalui internet
 - d. Minimnya fasilitas-fasilitas umum yang memadai
13. Berikut ini dampak positif menggunakan internet, kecuali
 - a. Memudahkan komunikasi jarak jauh
 - b. Dapat mencari informasi yang dibutuhkan
 - c. Adanya pencurian data melalui media sosial
 - d. Sarana edukasi yang baik
14. Berikut dampak positif modernisasi di bidang sosial budaya
 - a. Susahnya mencari kerja
 - b. Meniru budaya luar yang sedang populer
 - c. Mudahnya mengenalkan dan mempopulerkan budaya sendiri ke dunia
 - d. Sikap konsumerisme di kalangan perkotaan tinggi
15. Penemuan telepon adalah penemuan yang bermanfaat dalam menyampaikan informasi agar lebih cepat dan mudah, namun akan menjadi hal yang tidak bermanfaat jika digunakan untuk.....
 - a. Mencari kabar saudara yang jauh
 - b. Menipu orang lain yang belum dikenal

- c. Berbincang dengan kawan di perantauan
 - d. Menyampaikan pesan peringatan bahaya
16. Perkembangan ilmu pengetahuan terhadap modernisasi antara lain ditunjukkan dengan
- a. Mudah mencari ilmu dan pengetahuan baru di internet
 - b. Menjadikan masyarakat lebih menghargai sesama
 - c. Memberikan perasaan percaya diri pada masyarakat
 - d. Meningkatkan kontrol sosial sehingga terwujud keteraturan
17. (1) Terbuka terhadap kritik dan saran
(2) Pola pikirnya bersifat religius
(3) Kontrol sosial bersifat formal
(4) Mobilitas sosialnya bersifat dinamis
(5) Hubungan dan ikatan sosialnya sangat kuat
Dari ciri-ciri di atas yang termasuk ciri-ciri masyarakat modern adalah
- a. 1, 2 dan 3
 - b. 1, 3 dan 4
 - c. 1, 2 dan 4
 - d. 1, 2 dan 5
18. Dampak positif adanya televisi adalah
- a. Dapat menyebarkan hoaks
 - b. Dapat menginformasikan peristiwa penting
 - c. Dapat memperlambat penyebaran berita
 - d. Dapat membuang-buang waktu
19. Berikut dampak buruk industrialisasi adalah
- a. Makin sempitnya area hutan dan persawahan
 - b. Makin cepatnya jalur distribusi
 - c. Makin majunya ilmu pengetahuan
 - d. Ditemukannya alat-alat canggih yang memudahkan hidup manusia
20. Modernisasi di bidang ekonomi memicu
- a. Kemunduran
 - b. Kesenjangan sosial
 - c. Inovasi
 - d. Pengangguran
21. Jarak antar nada dalam lagu disebut
- a. Birama
 - b. Tempo
 - c. Interval
 - d. Melodi
22. Interval nada mayor adalah
- a. $1-1-\frac{1}{2}-1-1-\frac{1}{2}-1$
 - b. $1-1-\frac{1}{2}-1-\frac{1}{2}-1-\frac{1}{2}$
 - c. $1-1-\frac{1}{2}-1-1-1-\frac{1}{2}$
 - d. $\frac{1}{2}-1-\frac{1}{2}-1-1-1-\frac{1}{2}$
23. Nada re ke sol berinterval
- a. Prim
 - b. Terts

- c. Quart
 - d. Quin
24. Jarak nada tertinggi disebut
- a. Oktaf
 - b. Septim
 - c. Prim
 - d. Sekon
25. Di bawah ini adalah urutan nama interval yang benar adalah
- a. Sekon, prim, terts, quart, quin, sekt, septim, oktaf
 - b. Prim, sekon, terts, quart, quin, sekt, septim, oktaf
 - c. Oktaf, sekon, terts, quart, quin, sekt, septim, prim
 - d. Sekon, terts, quart, quin, sekt, septim, oktaf, prim
26. Bunyi yang beraturan serta mempunyai tinggi dan rendah yang berbeda disebut
- a. Tempo
 - b. Interval
 - c. Nada
 - d. Birama
27. Interval nada ke satu ke nada ke dua disebut
- a. Prim
 - b. Sekon
 - c. Terts
 - d. Quart
28. Nada Do ke Re berjarak
- a. 1
 - b. $1\frac{1}{2}$
 - c. 2
 - d. $2\frac{1}{2}$
29. Lagu “Yamko Rambe Yamko” memiliki tempo
- a. Semangat
 - b. Sedih
 - c. Susah
 - d. Gelisah
30. Berikut yang merupakan alat musik yang dapat dijadikan sebagai musik melodi adalah
- a. Gong
 - b. Kendang
 - c. Pianika
 - d. Drum