



<<<< HORAS >>>>



PASO1

Fíjate en los relojes. Lee y responde a las preguntas.



Son las 12 en punto.

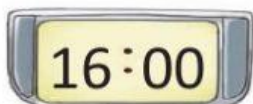
Pasa 1 hora de las 12.
Es la 1 en punto.

Pasan 2 horas de las 12.
Son las 2 en punto.

- observa los relojes anteriores y completa.



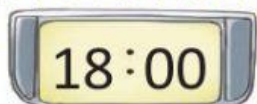
Pasan **3** horas de
las 12.
Son las en
punto.



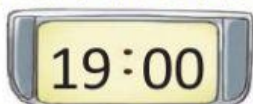
Pasan horas
de las 12.
Son las en
punto.



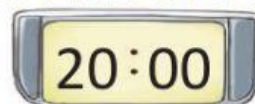
Pasan horas
de las 12.
Son las en
punto.



Pasan horas
de las 12.
Son las en
punto.



Pasan horas
de las 12.
Son las en
punto.



Pasan horas
de las 12.
Son las en
punto.



Pasan horas
de las 12.
Son las en
punto.



Pasan horas
de las 12.
Son las en
punto.



Pasan horas
de las 12.
Son las en
punto.

