



NOMBRE Y APELLIDOS COMPLETOS:	
FECHA:	
GRADO:	

1. IDENTIFICA LA ESCRITA DE SU NOMBRE Y SUS DATOS PERSONALES

1.- Escribe tu nombre en el gafete



mi nombre es:

2.- Elabora un dibujo de tu casa.



3.- Con ayuda de un adulto, escribe tu domicilio.

Vivo en la calle:

El número de mi casa es:

La colonia es:

La ciudad es:

2. ENCUENTRA LAS PALABRAS OCULTAS EN LA SOPA DE LETRAS.



Palabras escondidas

t	c	g	h	o	s	a	p	d
r	a	t	y	j	x	k	y	m
u	b	y	t	i	ü	f	v	r
f	a	w	x	r	q	z	a	r
e	l	e	f	a	n	t	e	z
é	l	d	y	f	ó	j	q	g
ü	o	w	e	a	b	e	j	a
ñ	j	y	g	v	h	í	n	t
q	y	ú	k	i	b	u	h	o




3. ESCRIBE EL NOMBRE DE CADA ANIMAL U OBJETO DE LA IMAGEN DE MANERA CORRECTA:





4. UNIR CADA PALABRA CON LA IMÁGEN CORRECTA



Hormiga



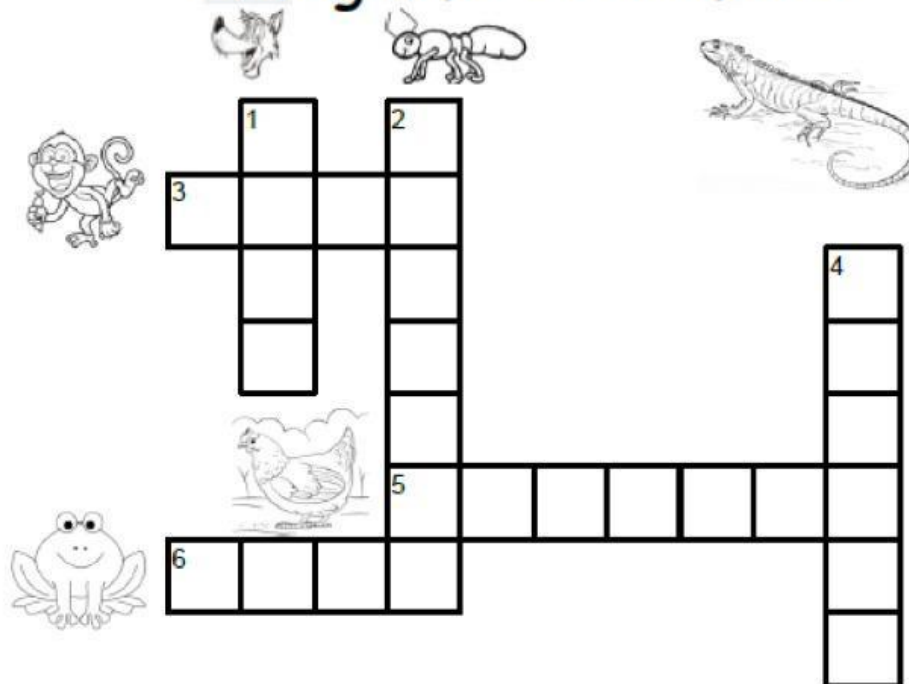
Caracol



Conejo

5. RESUELVE EL CRUCIGRAMA

Crucigrama de animales



6. LEER LAS ORACIONES Y SEPARARLAS DE MANERA CORRECTA.

Había una vez un delfín muy bonito.

Goyo es un gato muy plácido y amigable.




MATEMÁTICAS

7. SELECCIONAR EL NÚMERO CORRECTO QUE INDICA LA PALABRA.


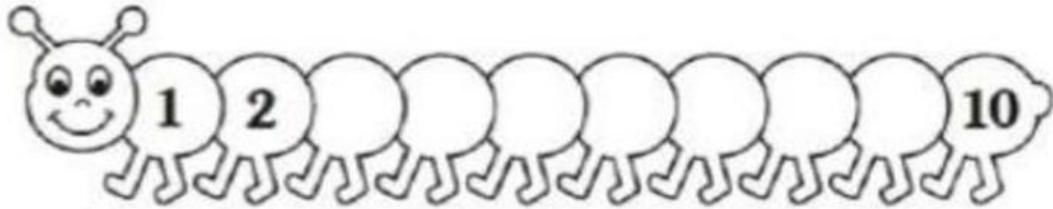
QUINCE	7	12	15	9	1
SIETE	7	60	34	5	6
DIEZ	43	10	38	78	23
VEINTE	56	32	20	12	6
VEINTI CINCO	34	25	4	36	23
CINCUENTA Y OCHO	5	58	391	2	6
TRECE	13	34	98	98	44
UNO	5	65	1	23	67

8. ESCRIBE CON NÚMEROS Y LETRAS LA CANTIDAD DE DIBUJOS QUE TIENE LA IMAGEN.





9. COMPLETAR LA SERIE DE LOS SIGUIENTES NÚMEROS.



10. ORDENAR DE MENOR A MAYOR Y ESCRIBELOS EN LOS CUADROS.

15	2	14	3	8	13	6	7	12	11	5	10	4	9	3	8	2	1
----	---	----	---	---	----	---	---	----	----	---	----	---	---	---	---	---	---

--	--	--	--	--	--	--	--	--	--	--	--	--	--	--	--	--	--

11. ESCRIBE LOS NÚMEROS QUE FALTAN EN EL MES DE MAYO, CUÉNTALO EN VOZ ALTA Y LEE LOS DÍAS DE LA SEMANA.

DOMINGO	LUNES	MARTES	MIÉRCOLES	JUEVES	VIERNES	SABADO
			1		3	
	6	7		9		11
12			15		17	
	20			23		25
	27				31	



12. Completa las series, escribiendo los números que faltan.

13. Completa LAS SERIES, ESCRIBIENDO LOS NÚMEROS QUE FALTAN.

17	18				22	
----	----	--	--	--	----	--

30	29			26		
----	----	--	--	----	--	--

13		15			18	
----	--	----	--	--	----	--

--	--	--	--	--	--	--

30	29			26		
----	----	--	--	----	--	--

13		15			18	
----	--	----	--	--	----	--

14. Llenar las tablas según las indicaciones. Observa los ejemplos.

- Escribe el número que está después de cada número (sucesor) indicado.

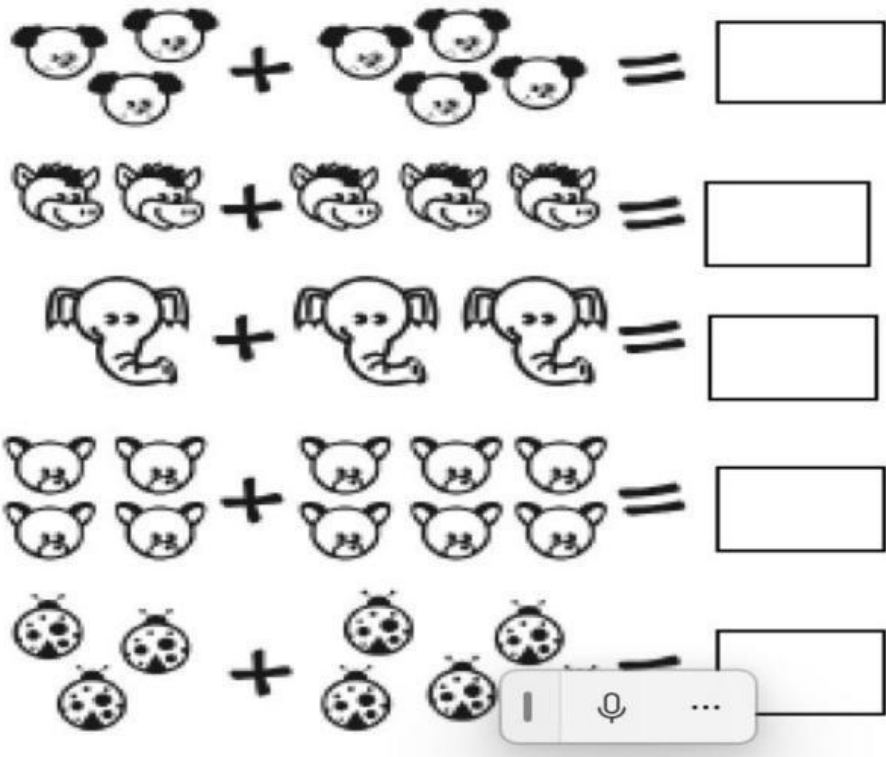
7	8
26	
19	
28	
23	

- Escribe el número que está antes de cada número (antecesor) indicado.

9	10
	27
	18
	30
	16



15. junta cada grupo de animales y escribe en el recuadro cuantos son en total.



16. ¡Sumo fácilmente!

17. Resuelve lo siguiente.

. Resuelve lo siguiente

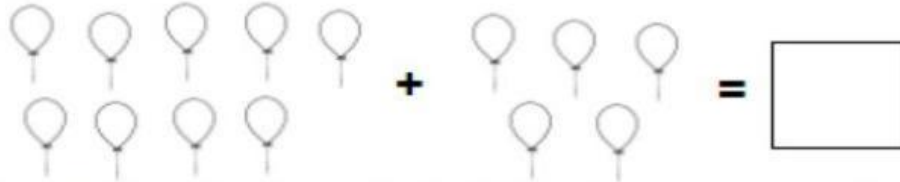
Agrega 6 a cada número y escribe el resultado.	
6	12
8	
9	
5	
7	

Agrega 5 a cada número y escribe el resultado	
8	
7	
3	
5	



18. Resuelve lo siguiente

18.- A Paco le regalaron en su cumpleaños 9 globos rojos y 5 azules. ¿Cuántos globos tiene?



19.- En el jardín de mi tía Carmen había lindas flores, ella me regalo 6 rosas rojas y 8 amarillas. ¿Cuántas rosas me dio?



20.- En un nido había 9 huevos, al ponerlos en una canasta quebré 3.

¿Cuántos huevos quedaron?

_____ Huevos

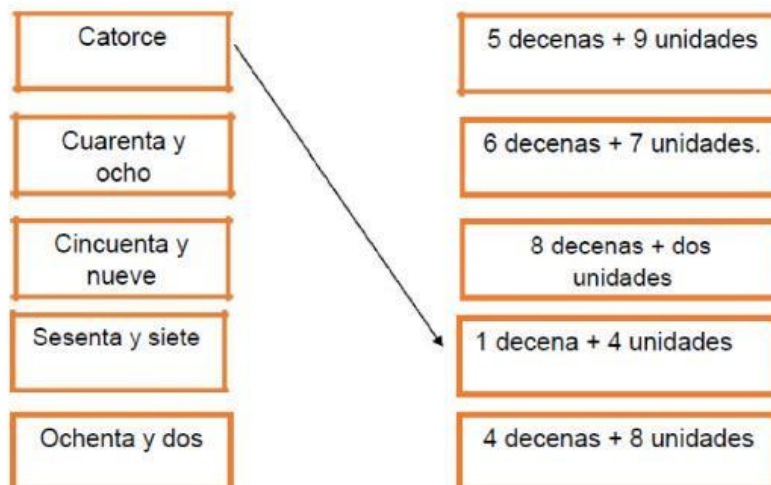


19. Escribe las decenas y las unidades que forman cada número. Observa el ejemplo.


NÚMERO	DECENAS	UNIDADES
35=	3	5

NUMERO	DECENAS	UNIDADES
45=		
38=		
67=		
72=		
82=		

20. Relaciona con una línea cada resultado con la suma que corresponde.



21. Escribe o dibuja la hora correcta en cada uno de los relojes.



22. Clasifico animales. Dibuja o pega animales que tengan las características que se indican.

De dos patas	Que vuelan	Que tienen escamas	Que comen carne

indican.