

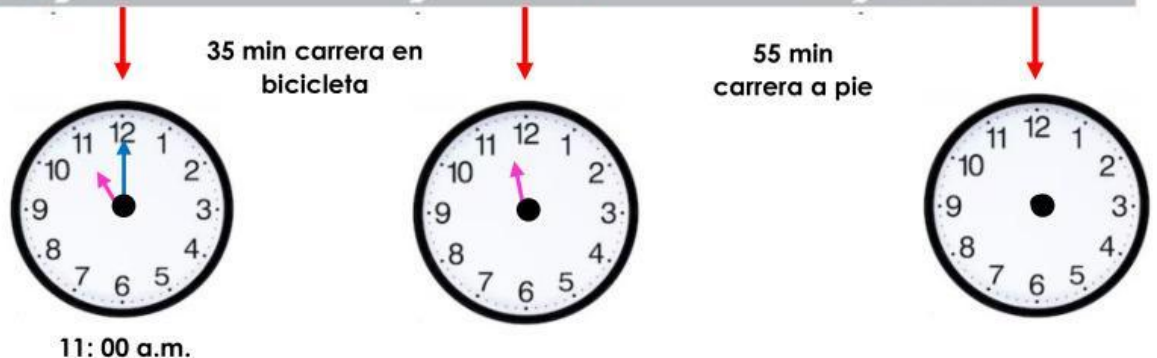
SITUACIÓN SIGNIFICATIVA

TEMA: Unidades de medida

1. Lee la siguiente situación

Matías y Ema participaron de una carrera que combina un trayecto en bicicleta seguido de una carrera a pie.

¿Dónde deben estar ubicadas las manecillas de los relojes para indicar la hora en que Matías y Ema completaron cada trayecto?



1 Completa los relojes y responde.

- a) Sami estudió desde las 10:00 durante 1 hora y media. ¿A qué hora terminó de estudiar?



Inicio




Término

- b) Gaspar corre a diario 30 minutos. Si comienza a correr a las 5:15 de la tarde, ¿a qué hora termina de correr?



Inicio



Término

- c) Sofía salió de la escuela a las 3:30 de la tarde. Se demoró 37 minutos en llegar a su casa. ¿A qué hora llegó a su casa?




Inicio

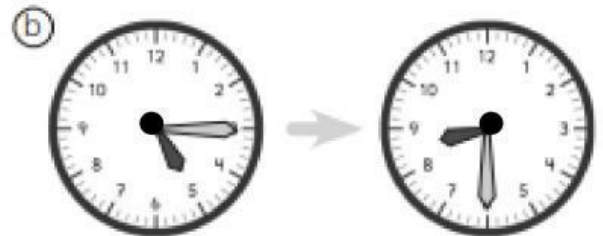


Término

2 ¿Cuánto tiempo ha transcurrido?



Han transcurrido horas y minutos.



Han transcurrido horas y minutos.

c) 2:45 a 3:27

d) 7:48 a 8:53

e) 6:05 a 8:13

f) 3:17 a 3:41

g) 4:36 a 6:37

h) 8:50 a 10:23