

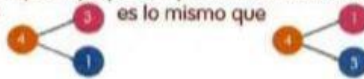
Ejemplo:




¿Cuántos hay en cada grupo?

todo parte
4 3 1 parte
3 y 1 hacen 4.

Explique a su hijo o hija que 3, 1 y 4 son números conectados.
Explique que




b ¿Qué otros números hacen 4?



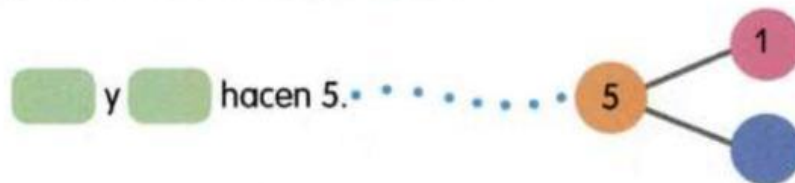
2. Escribe el número que falta.

a Separa en dos grupos.

¿Cuántos hay en cada grupo?

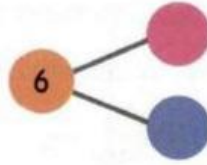



b ¿Qué otros números hacen 5?

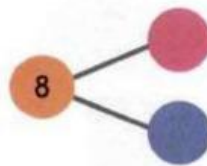



2. Descubre la cantidad de bolitas que hay que están escondidas.

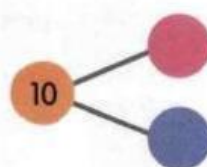

1 En total hay 6 bolitas bajo los dos vasos.



2 En total hay 8 bolitas bajo los dos vasos.



3 En total hay 10 bolitas bajo los dos vasos.



3. Observa el dibujo.

Escribe dos números conectados.



 sillas rojas y  sillas azules
 hacen  sillas.



 chicas y  chicos
 hacen  niños en total.

