

NÚMEROS DE 4 Y 5 CIFRAS

1. Escribe la descomposición de cada número.

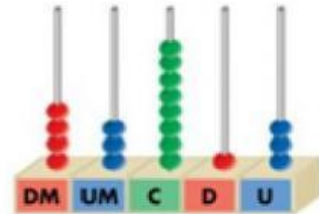
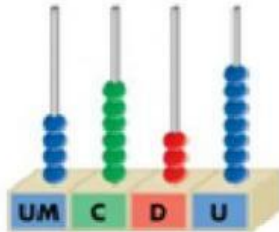
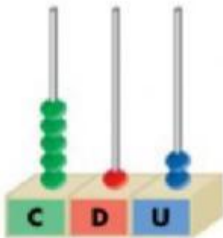
	DM	UM	C	D	U
12.345					
5.092					
1.378					
890					
4.123					
678					
33.452					
87.652					

2. Observa y arrastra el número representado.

4.637

43.813

512



3. Relaciona cada descomposición con su número.

$2UM+3C+4U$

60.728

$3DM+4UM+6C+1D+9U$

2.304

$5C+2U$

34.619

$6DM+7C+2D+8U$

502

4. Ordena de menor a mayor.

1.502

32.456

5.867

45.765

4.321

Five empty boxes arranged horizontally, connected by purple less-than signs (<), indicating a sequence for ordering numbers from smallest to largest.

5. Aproxima a las unidades de millar.

1.234 → 1.000 2.000

3.678 → 3.000 4.000

6.789 → 6.000 7.000

2.345 → 2.000 3.000

6. Aproxima a las centenas.

234 → 200 300

678 → 600 700

789 → 700 800

7. Relaciona.

6°

Vigésimo segundo

10°

Sexto

22°

Décimo