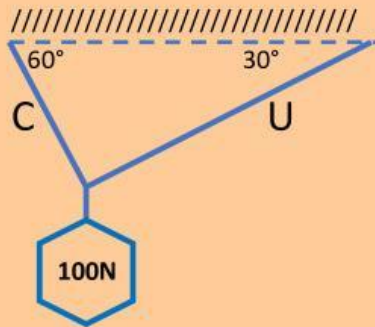


## FICHA 2C

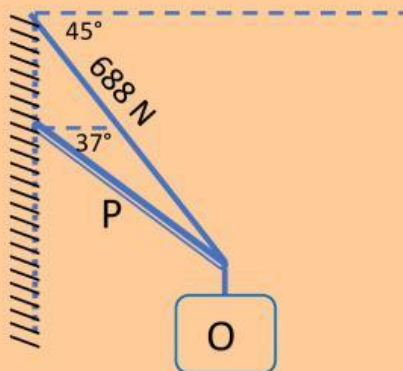
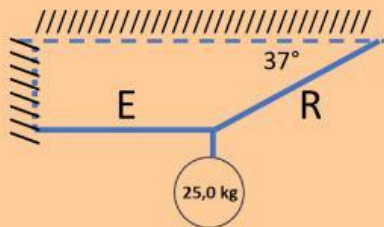
### EQUILIBRIO EN CUERPOS SUSPENDIDOS Y APOYADOS



#### Instrucciones:

Determine los valores de la intensidad de las fuerzas presentadas en los tres esquemas. Una vez encontrados los valores realice el pareo.

P corresponde a un cuerpo rígido, todas las demás son flexibles. Todas las respuestas están en Newton



C  
U  
E  
R  
P  
O

609+/-3

407+/-3

325+/-3

120+/-3

86,0+/-0,3

50,1+/-0,3