

LEMBAR KEGIATAN BELAJAR

GERAK TARI KREASI DAERAH (POLA LANTAI GERAK TARI)

Anak-anak di pembelajaran tematik kali ini kita akan memahami tentang pola lantai gerak tari, tujuan dari kegiatan belajar kali ini yaitu :

1. Agar kita dapat memahami tentang arti pola lantai
2. Agar kita dapat memahami tentang fungsi pola lantai
3. Agar kita dapat memahami tentang macam-macam pola lantai.


Untuk menambah wawasan tentang pola lantai cermati video di bawah ini !

Setelah mencermati video anak-anak juga bisa membaca paket tema 7 sub 2 pb 2 dan 5.


Nah.... Anak-anak untuk mengetahui seberapa jauh pemahan kalian, anak-anak bisa mengerjakan latihan di bawah ini !

Tulislah (B) bila penyataaan di di bawah ini Benar, dan (S) bila pernyataan di bawah ini salah !

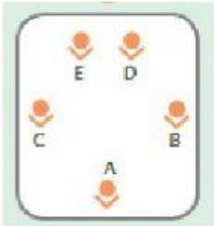
1. Pola lantai merupakan garis imajiner yang dilalui oleh penari saat melakukan gerak tari.
2. Secara umum pola lantai terbagi menjadi 3 yaitu garis lurus, garis lengkung, dan lingkaran.
3. Pola lantai lingkaran merupakan pengembangan dari pola lantai garis lurus.
4. Pada umumnya pola lantai terbagi menjadi dua yaitu pola lantai garis lurus dan pola lantai garis lengkung

5.  Pola lantai pada gambar di samping penari bergerak melalui garis lurus ke depan.

6.  Pola lantai pada gambar di samping formasi penari membentuk pola lantai diagonal

7.  Tari saman dari aceh membentuk formasi tari lingkaran

Gambar 2.7 Tari Saman

8. Formasi tari zig-zag merupakan formasi tari yang menyerupai huruf Z
9.  Gambar di samping merupakan formasi tari membentuk pola lantai segi enam
10. Pola lantai bertujuan untuk memperindah tarian yang dipentaskan