


1. З'єднай екологічну групу рослин з малюнком рослини, яка відноситься до цієї групи



молодило



подорожник



сальвінія

вологолюбні

світлолюбиві

тіневитривалі

водні

посухостійкі



комиш



конвалія



копитень

2. Дайте визначення.





Життєва форма - це

3. Виберіть ознаки характерні для певної життєвої форми рослин. Поставте в кожній клітинці ТАК чи НІ.

Ознаки	Дерева	Кущі	Напівкущі	Трави
Мають багаторічні здерев'янілі пагони				
Мають один головний пагін - стовбур				
Мають декілька стовбурів				
Верхня частина надземних пагонів трав'яниста, а нижня - дерев'яниста				
Надземна частина не дерев'яніє				

4. Укажіть цифрами життєву форму рослин до якої вони відносяться.

полин     лаванда     каштан  
 слива     малина     суниця  
 глід     пирій

1    Дерева    2    Кущі    1    Напівкущі    4    Трави