

Números enteros

1. Escribe el número entero que representa cada situación:

Un termómetro marca 7 °C bajo cero →

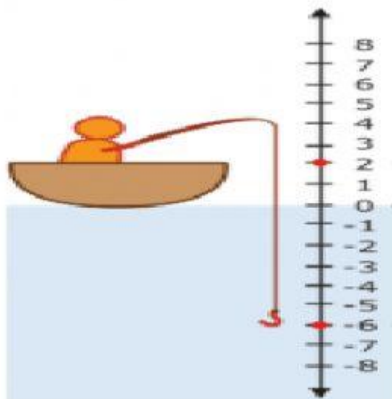
El mar Mediterráneo tiene una profundidad máxima de 5000 metros →

El monte Aconcagua tiene 6959 metros de altura sobre el nivel del mar →

Al final del día, hay cien euros en la caja registradora de la tienda →

Por cada pregunta que aciertes en la prueba, obtienes 3 puntos →

2. Usa números enteros en la siguiente situación: Un pescador está sentado a 2 pies sobre la superficie del lago, y el anzuelo está flotando 6 pies bajo la superficie.



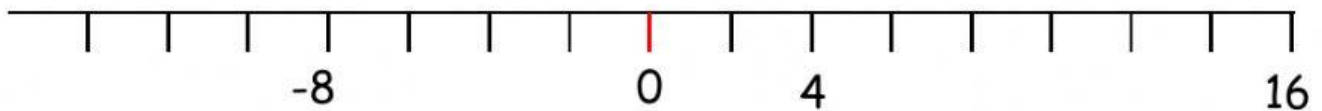
Ubicación del pescador:

Ubicación de anzuelo:

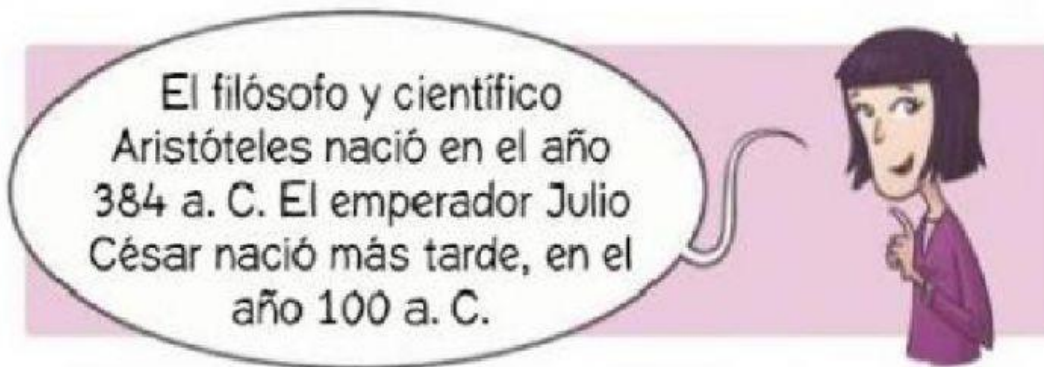
3. Completa usando > o < según corresponda

-100	100
-5	-2
+15	+9
+10	-23
-20	+13

4. Completa la recta con los números que falten



5. Marca la opción correcta



- A. $100 < 384$ B. $+100 > -384$ C. $-384 < 100$ D. $-384 < +100$