



Atividade

1 - Que horas são?






Atividades

► Complete os espaços:

- Meia hora tem _____ minutos.
- 1 hora são _____ minutos.
- 60 minutos formam _____ hora.
- Um quarto de hora são _____ minutos.



► Que horas marcam estes relógios?



• Manhã: _____
• Noite: _____

• Manhã: _____
• Noite: _____

• Manhã: _____
• Tarde: _____

► Resolva o problema:



Saul vai para a escola às 7 horas e volta para casa às 11 horas. Quantas horas **Saul** fica na escola?

• Análise:

.....
.....
.....

• Sentença matemática:

.....

• Operação:

.....
.....
.....
.....
.....

• Resposta:

.....
.....
.....
.....