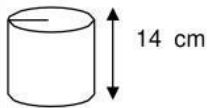
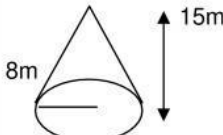
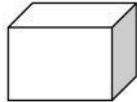


COLEGIO NACIONAL AMERICANO  
MATEMÁTICAS 6TO.  
PRUEBA CORTA QUINCENA XIV

- RESPONDE:

Es el volumen que resulta de multiplicar un metro de largo, por un metro de ancho, por un metro de alto

- Calcula el volumen de las siguientes figuras en hojas cuadrículadas, aquí coloca la respuesta.

	<p>Respuesta:</p>
	<p>Respuesta:</p>
 <p>L = 7 m</p>	<p>Respuesta:</p>


Instrucciones: Resuelve los siguientes problemas debes escribir fórmula, operación y respuesta para cada uno

1. Si una piscina mide  $50 \text{ m}^2$  de base y 1.20 m de profundidad. ¿Cuántos litros de agua se necesitan para llenarla?



Respuesta: \_\_\_\_\_

2. Para plantar 76 cedros se hicieron hoyos cilíndricos de 25 cm. de profundidad y 20 cm. de diámetro. ¿Cuál es el volumen total de la tierra extraída?



Respuesta: \_\_\_\_\_

