


INSTRUCCIONES: Anota los resultados que se obtienen en las siguientes sumas para saber a qué número se llega.



13


+



=

27

+




=



39


+



=

40


+



=

54

+



=