


LKPD

MEMBANDINGKAN DAN MENGURUTKAN BILANGAN DESIMAL

3,14

TIGA KOMA SATU EMPAT




MATH WITH MS.ANA



@matemanatika




MENGURUTKAN & MEMBANDINGKAN BILANGAN DESIMAL



Berilah solusi pada beberapa masalah berikut ini!

Masalah 1 :



Jawabanmu :

Masalah 2 :

Sekelompok anak kelas 5 menuliskan waktu yang mereka butuhkan untuk menyelesaikan proyek IPA. Mereka adalah Ismi, Andri, dan Indah.



Jawablah :

a. Siakah yang membutuhkan waktu pengerjaan proyek IPA paling sedikit ?

☐ Indah ☐ Andri ☐ Ismi ☐

b. Siakah yang membutuhkan waktu pengerjaan proyek IPA paling lama ?

☐ Indah ☐ Andri ☐ Ismi ☐ Andri & Indah

c. Jika mereka berbaris dengan urutan waktu tercepat hingga terlama (terkecil hingga terbesar), maka urutan yang tepat adalah