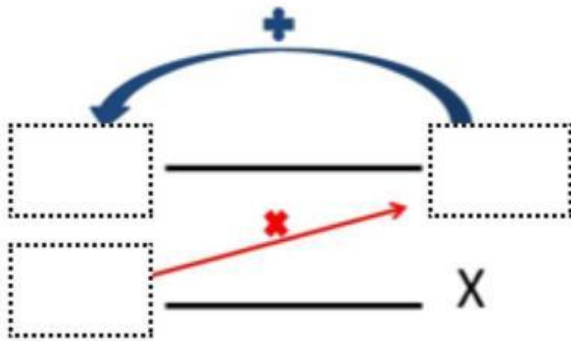


Hoja de Trabajo

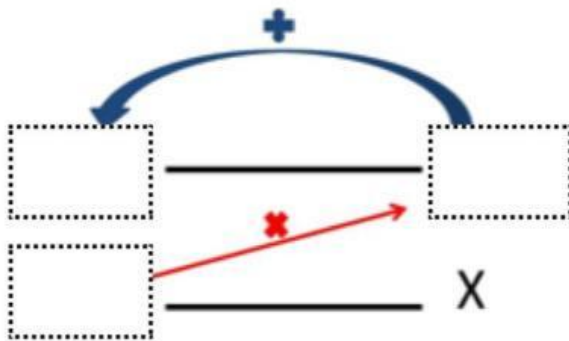
Nombre: _____ Fecha: _____ Punteo: _____

Instrucciones: Resuelve los siguientes problemas utilizando la regla de 3.

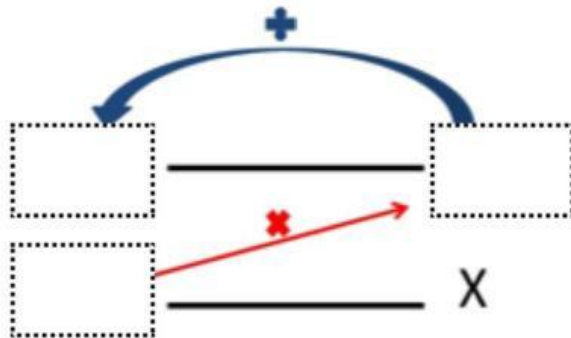
1. El carro de mi primo recorre 400km en 2 horas, cuantos kilómetros recorrerá en 50 horas.



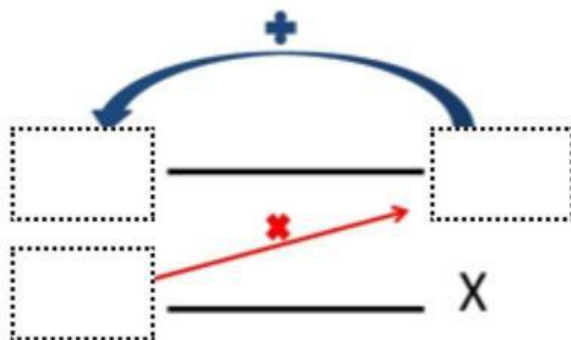
2. El sábado realizaré una fiesta por mi cumpleaños, para realizar un pastel para 30 personas necesito 4 libras de harina, pero yo invite a 60 personas ¿Cuántas libras de harina necesito?



3. Durante la excursión escolar el colegio utilizó 3 buses para 139 alumnos, están vez irán dos colegios cuantos buses necesitaremos si ahora son 580 alumnos.



4. Para hacer 15 pies de manzana necesito 3 libras de manzana, ¿cuántas libras de manzana tendré que comprar si hago 60 pies?



5. Una fabrica elabora 400 lapiceros en 3 horas, ¿Cuántos lapiceros elaborará en 50 horas?.

