

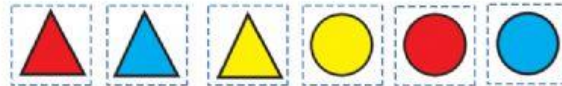



# Тиждень 23

(ім'я) \_\_\_\_\_

 Яка фігура наступна? Обери:



 Встав знаки арифметичних дій, щоб одержати істинні рівності.

$7 \bigcirc 2 = 6 \bigcirc 3$

$1 \bigcirc 2 = 6 \bigcirc 3$

$3 \bigcirc 2 = 8 \bigcirc 3$

$10 \bigcirc 4 = 8 \bigcirc 2$

$5 \bigcirc 3 = 6 \bigcirc 2$

$5 \bigcirc 5 = 6 \bigcirc 4$


$9 \bigcirc 3 = 4 \bigcirc 2$

$2 \bigcirc 5 = 9 \bigcirc 2$

$10 \bigcirc 3 = 4 \bigcirc 3$

 Заповни таблицю.

Зменшуване	10	9		8	10		7	9		10	8		4
Від'ємник	7		3	5		2	5		2	9		3	4
Різниця		8	4		6	3		6	7		6	7	

 Порівняй вирази за схемами.

$$\begin{array}{c}
 10 - 6 \quad \bigcirc \quad 2 + 3 \\
 \swarrow \quad \searrow \quad \swarrow \quad \searrow \\
 \square \quad \bigcirc \quad \square
 \end{array}$$

$$\begin{array}{c}
 5 + 3 \quad \bigcirc \quad 10 - 2 \\
 \swarrow \quad \searrow \quad \swarrow \quad \searrow \\
 \square \quad \bigcirc \quad \square
 \end{array}$$

$5 \text{ см} + 3 \text{ см} \bigcirc 7 \text{ см} + 2 \text{ см}$

$9 \text{ см} - 6 \text{ см} \bigcirc 6 \text{ см} - 3 \text{ см}$

$\square \text{ см} \bigcirc \square \text{ см}$

$\square \text{ см} \bigcirc \square \text{ см}$

$2 \text{ см} + 3 \text{ см} \bigcirc 6 \text{ см} + 2 \text{ см}$

$9 \text{ см} - 6 \text{ см} \bigcirc 1 \text{ см} + 2 \text{ см}$

$\square \text{ см} \bigcirc \square \text{ см}$

$\square \text{ см} \bigcirc \square \text{ см}$