

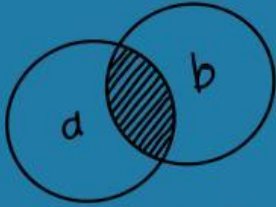
LEMBAR KERJA PESERTA DIDIK HIMPUNAN



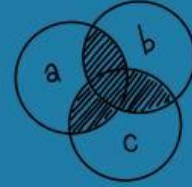
Nama : Iva Khasanah

NPM : 23530594

PPG Prajabatan Pendidikan Matematika



LKPD



HIMPUNAN




Perhatikan vidio berikut ini



Perhatikan materi presentasi berikut

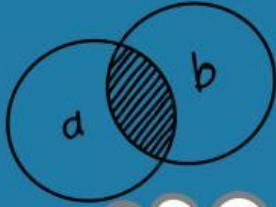


Materi




Materi





LKPD



HIMPUNAN

1 TEKSFIELD

Kumpulan atau kelompok benda yang dapat didefinisikan dengan jelas disebut ...

2 SINGLE CHOICE

Yang bukan merupakan operasi himpunan adalah...

3 CHECKBOXES

Yang merupakan Himpunan adalah ...

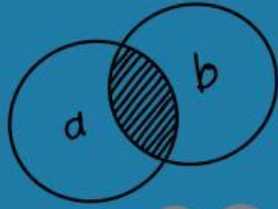
- | | |
|--|---|
| <input type="checkbox"/> Kumpulan hewan mamalia | <input type="checkbox"/> Kumpulan orang pendek |
| <input type="checkbox"/> Kumpulan bersuara merdu | <input type="checkbox"/> Kumpulan warna pelangi |

4 SELECT


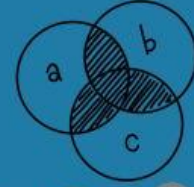
Diketahui $A = \{2, 3, 4\}$ dan $B = \{1, 3\}$, maka $A \cup B$ adalah

- | | | | |
|------------------------------|---------------------------------------|---------------------------------|---------------------------------|
| <input type="checkbox"/> {3} | <input type="checkbox"/> {1, 2, 3, 4} | <input type="checkbox"/> {1, 3} | <input type="checkbox"/> {2, 4} |
|------------------------------|---------------------------------------|---------------------------------|---------------------------------|





LKPD



HIMPUNAN

5 WORD SEARCH

Cari Kata : Himpunan, Irisan, Selisih, Bagian

S	E	L	I	S	I	H	C
K	F	L	O	B	G	I	E
I	R	I	S	A	N	M	U
P	Q	L	B	G	M	P	T
S	I	T	C	I	X	U	Y
U	A	H	Y	A	E	N	Q
R	L	W	M	N	L	A	U
T	R	O	K	X	V	N	M

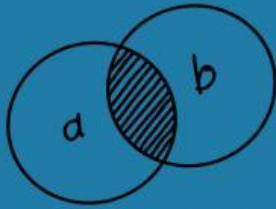
6 SPEAKING

Sebutkan jawaban dari soal dibawah ini!


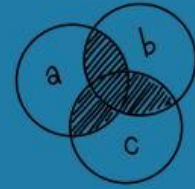
Himpunan yang seluruh anggota berada di himpunan lain merupakan himpunan ...

Himpunan yang tidak memiliki anggota persekutuan adalah himpunan ...





LKPD



HIMPUNAN

7 LISTENING



Benar

Salah



Benar


Salah

8 DRAG & DROP

Pindahkan gambar dibawah kekotak yang tepat!



Saling Lepas

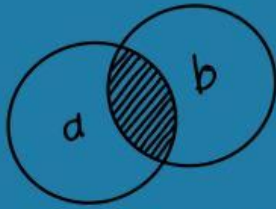


Berpotongan


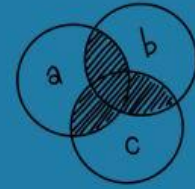


$A \subset B$





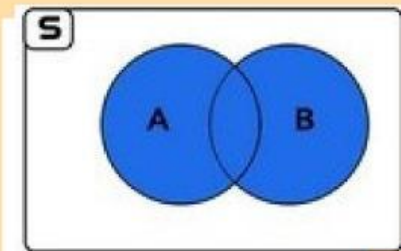
LKPD



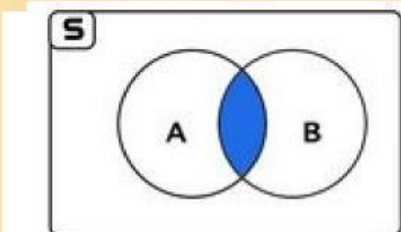
HIMPUNAN

9 JOIN ARROW

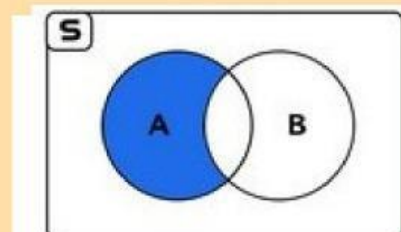
Tarik garis untuk memasangkan gambar dan keterangan dibawah ini!



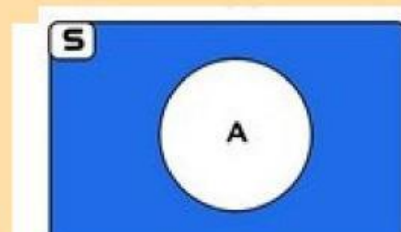
Irisan



Gabungan



Komplemen



Selisih

