

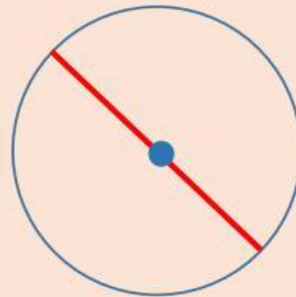
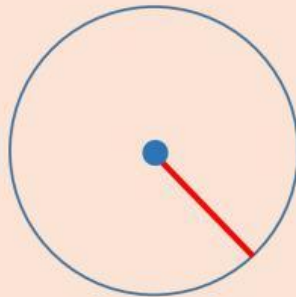
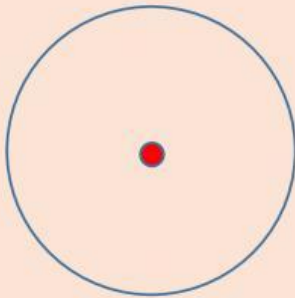




Circunferencia, círculo y sus elementos

Selecciona el nombre de lo representado en rojo:



Marca las frases son correctas :

El diámetro es la mitad del radio

El círculo es una línea curva cerrada

El radio une el centro con cualquier punto de la circunferencia

El diámetro pasa por el centro de la circunferencia

El radio es la mitad del diámetro