

I. Berilah tanda (x) pada huruf a, b, c, atau d pada jawaban yang paling benar!

6. Dede akan menggambar dua garis yang saling tegak lurus. Kedua garis tersebut harus digambar dengan membentuk sudut...

- A. lancip
- B. tumpul
- C. siku-siku
- D. berpelurus

7. Perhatikan diagram berikut!

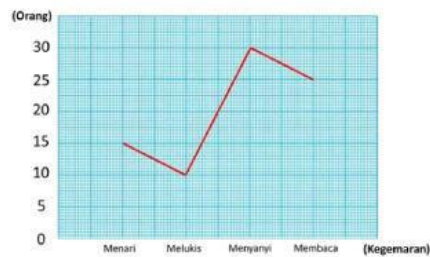


Diagram di atas menunjukkan kegemaran siswa kelas 4, 5, dan 6 SD Harapan. Banyaknya siswa yang gemar membaca yaitu...

- A. 10 orang
- B. 15 orang
- C. 25 orang
- D. 30 orang

8. Perhatikan diagram berikut!

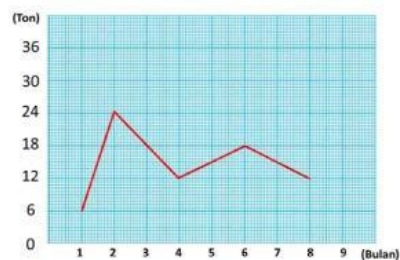


Diagram garis tersebut menunjukkan penjualan jeruk oleh PT Makmur Sejahtera. Penjualan terbanyak terjadi pada bulan ke...

- A. 2 (Februari)
- B. 3 (Maret)
- C. 6 (Juni)
- D. 8 (Agustus)

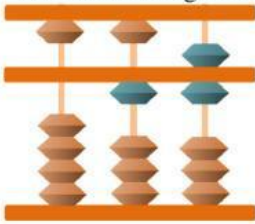
9. Ada 433 orang siswa yang akan masuk ke kebun binatang. Harga tiket masuk 4.600 rupiah per orang. Perkiraan uang yang harus dibayar oleh semua siswa yaitu...

- A. 1.000.000
- B. 1.500.000

C. 1.800.000

D. 2.000.000

10 .Perhatikan gambar berikut!



Sempoa di atas menunjukkan bilangan ...

A. 15

B. 16

C. 17

D. 18

II. Jawablah Pertanyaan di Bawah ini dengan benar !

1. $2800 : 700 = \dots$

2. $2.560 : 16 = \dots$

3. $2.36 \times 8 =$

4. $4.321 \times 13 =$

5. $2.367 : 12 =$

III. Jawablah Uraian Soal di Bawah ini !

1. $4.738 : 6$

2. 5.145×3

3. Gambarlah sudut 55° !

4. Gambarlah trapesium!

5. Buatlah diagram garis dari data berikut!

No.	Bulan	Banyak Panen Apel (Ton)
1	Januari	5
2	Februari	3
3	Maret	2
4	April	6
5	Mei	4
6	Juni	5

