
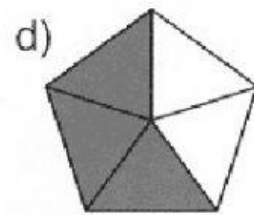
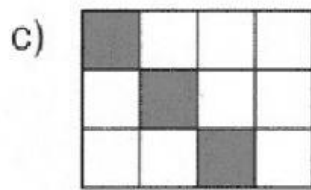
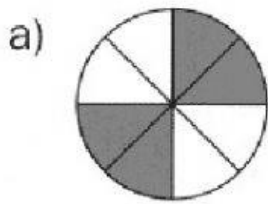


IMÁGENES FRACCIONADAS --- FRACCIONES IRREDUCIBLES

1.- Escribe la fracción irreducible que representa la parte coloreada en cada figura:



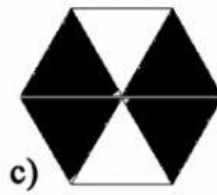
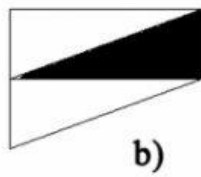
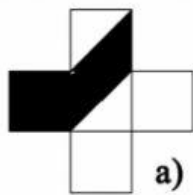
a) _____

b) _____

c) _____

d) _____

2.- Expresa mediante una fracción irreducible la parte rallada de las figuras.




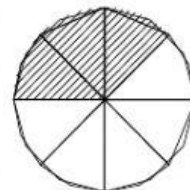
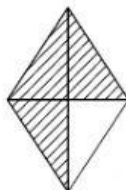
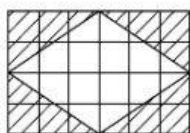
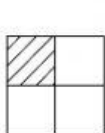
a) _____

b) _____

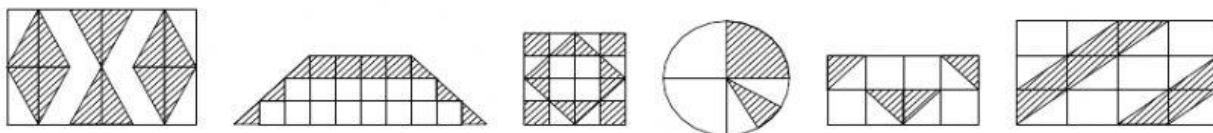
c) _____

d) _____

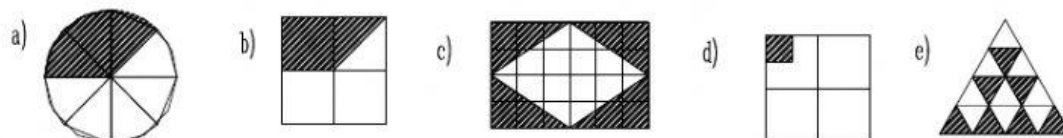
3.- Expresa mediante una fracción irreducible la parte rallada de las figuras.

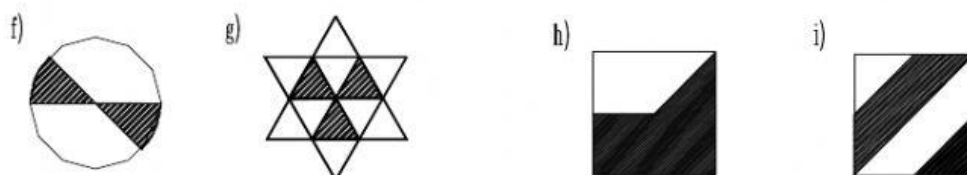


4.- Expresa mediante una fracción irreducible la parte rallada de las figuras.



5.- Expresa mediante una fracción irreducible la parte rallada de las figuras:

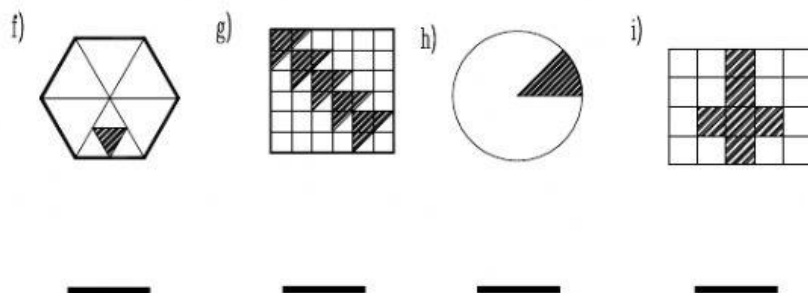




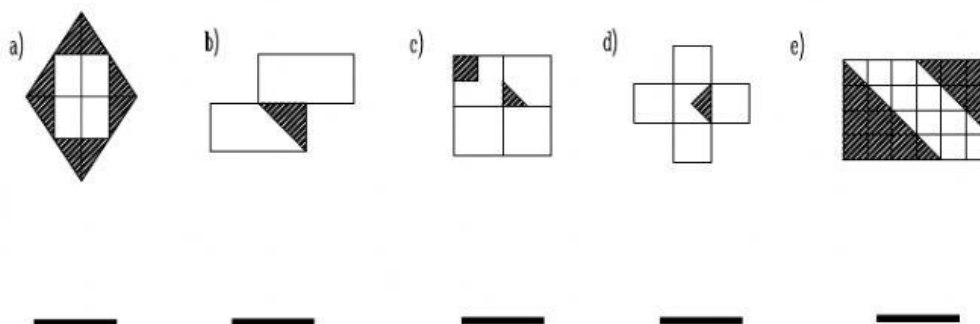
6.- Expresa mediante una fracción irreducible la parte rallada de las figuras:



7.- Expresa mediante una fracción irreducible la parte rallada de las figuras:



8.- Expresa mediante una fracción irreducible la parte rallada de las figuras:



9.- Expresa mediante una fracción irreducible la parte rallada de las figuras:

