



SUMATIF TENGAH SEMETER (STS) GANJIL
SMP KATOLIK "ST. YUSTINUS DE YACOBIS"
TAHUN AJARAN 2023 - 2024



NAMA :

NO.STS :

KELAS :

MATA PELAJARAN : IPS

Pilihlah salah satu jawaban yang benar !

1. Perhatikan negara-negara berikut ini:

- (1) Sri Lanka
- (2) Afganistan
- (3) India
- (4) Sudan
- (5) Nepal

Negara-negara yang berada di kawasan Asia Selatan ditunjukkan oleh nomor....

- (1), (2), dan (3)
- (1), (3), dan (5)
- (2), (3), dan (4)
- (3), (4), dan (5)

2. Penduduk di Benua Asia terdiri atas tiga ras utama namun ras tersebut telah bercampur sehingga mengalami proses asimilasi antara satu dan lainnya. Ras yang mendominasi kawasan Asia Timur dan Asia Tenggara adalah

- Kaukasoid
- Mongoloid
- Negroid
- Europoid

3. Perhatikan kondisi penduduk di bawah ini :

- 1) jumlah penduduknya terbanyak di dunia
- 2) sebagian besar penduduknya tergolong usia produktif

3) mata pencaharian mayoritas penduduknya masih mengandalkan sektor pertanian
Pernyataan di atas menggambarkan kondisi penduduk di benua

Asia

Amerika

Afrika

Eropa

4. Penduduk Asia memiliki kualitas yang dapat dilihat dengan menggunakan ukuran Human Development Index (HDI) atau Indeks Pembangunan Manusia (IPM). Human Development Index (HDI) merupakan gabungan dari indikator Angka Harapan Hidup sejak Lahir (Life Expectancy at Birth), pendidikan, dan pendapatan per kapita.

Jika suatu negara memiliki skor HDI yang tinggi, maka penduduk negara tersebut ...

Angka harapan hidup yang lebih panjang, lama pendidikan yang lebih lama (rata-rata pendidikannya tinggi), dan pendapatan per kapita yang lebih rendah

Angka harapan hidup yang lebih pendek, lama pendidikan yang lebih lama (rata-rata pendidikannya rendah), dan pendapatan per kapita yang lebih rendah

Angka harapan hidup yang lebih pendek, lama pendidikan yang lebih lama (rata-rata pendidikannya tinggi), dan pendapatan per kapita yang lebih tinggi

Angka harapan hidup yang lebih panjang, lama pendidikan yang lebih lama (rata-rata pendidikannya tinggi), dan pendapatan per kapita yang lebih tinggi

5. Berdasarkan indikator HDI atau IPM , kualitas penduduk Asia ternyata bervariasi. Negara-negara di Asia yang memiliki IPM sangat tinggi antara lain adalah...

Jepang, Singapura, Thailand

Singapura, Korea Selatan, Jepang

Malaysia, Singapura, Brunai Darusalam

Malaysia, Jepang, Philipina

6. Penduduk benua Asia terdiri dari beberapa Ras, yang mendominasi Asia Selatan bagian tengah adalah

Ras Europoid

Ras Mongoloid

Ras Kaukasoid

Ras Negroid

7. Benua Amerika memiliki kualitas penduduk yang bervariasi. Negara yang memiliki kualitas penduduk sedang adalah

Argentina dan Chile

Paraguay dan Bolivia

Amerika Serikat dan Kanada

Meksiko dan Brazil

8. Berdasarkan indikator HDI atau IPM , kualitas penduduk Eropa cukup beragam. Negara-negara di Eropa yang memiliki IPM sangat tinggi antara lain adalah...

Ukraina dan Armenia

Turki dan Georgia

Swis dan Jerman

Moldova dan Turki

9. Negara-negara di kawasan belahan bumi Utara identik dengan negara-negara maju. Namun demikian ada juga negara maju yang terletak di belahan bumi Selatan yaitu...

Singapura dan Korea Selatan

Australia dan Selandia Baru

Jepang dan Taiwan

Singapura dan Australia

10. Salah satu negara kepulauan di Benua Asia yang berada di zona pertemuan dua arus yang berbeda dan memiliki sumber daya perikanan tertinggi di dunia adalah...

Indonesia

Tiongkok

Jepang

India

11. Batas-batas Benua Asia sebagai berikut yaitu :

1) Samudera Pasifik

2) Pegunungan Ural

3) Laut Merah

4) Samudera Artik

5) Pegunungan Himalaya

Pernyataan di atas yang merupakan batas Benua Asia disebelah Timur dan Barat adalah yang bernomor

1), 2) dan 3)

2), 3) dan 4)

1), 4) dan 5)

4), 5) dan 6)

12. Perhatikan gambar di bawah ini !



Negara yang merupakan penghasil terbesar komoditas tersebut adalah benua ...

Asia

Afrika

Amerika

Australia

13. Secara fisik benua Asia dan benua Eropa sebetulnya berada dalam satu kawasan, namun masing-masing dianggap sebagai benua. Keduanya dianggap sebagai benua karena alasan adanya perbedaan...

Politik

Ekonomi

Budaya

Bahasa

14. Perhatikan data negara-negara di benua Eropa berikut ini:

1. Perancis

2. Kroasia

3. Jerman

4. Irlandia

5. Spanyol

Dari data di atas, negara yang terletak di kawasan Eropa Barat ditunjukkan pada nomor...

2, 4

2, 5

1, 2

1, 3

15. Negara-negara Asia Timur, seperti Jepang dan Korea Selatan dalam mengirimkan barang barang ekspor ke berbagai wilayah di dunia seperti Afrika, Timur Tengah dan Eropa menggunakan jalur perdagangan melalui selat

Karimata

Bosporus

Sunda

Malaka

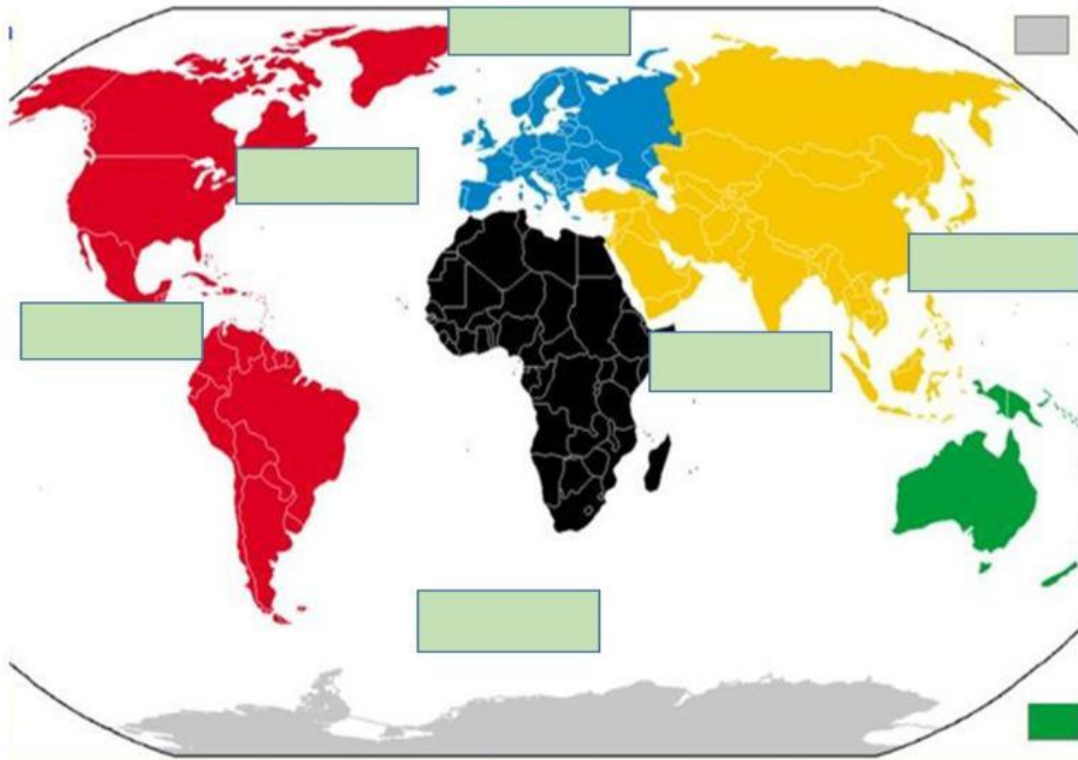
16. Perhatikan peninggalan budaya dunia berikut !

- (1) Tembok raksasa Cina
- (2) Menara Pisa
- (3) Borobudur Indonesia
- (4) Taj Mahal India
- (5) Kabah Arab Saudi
- (6) Menara Eiffel

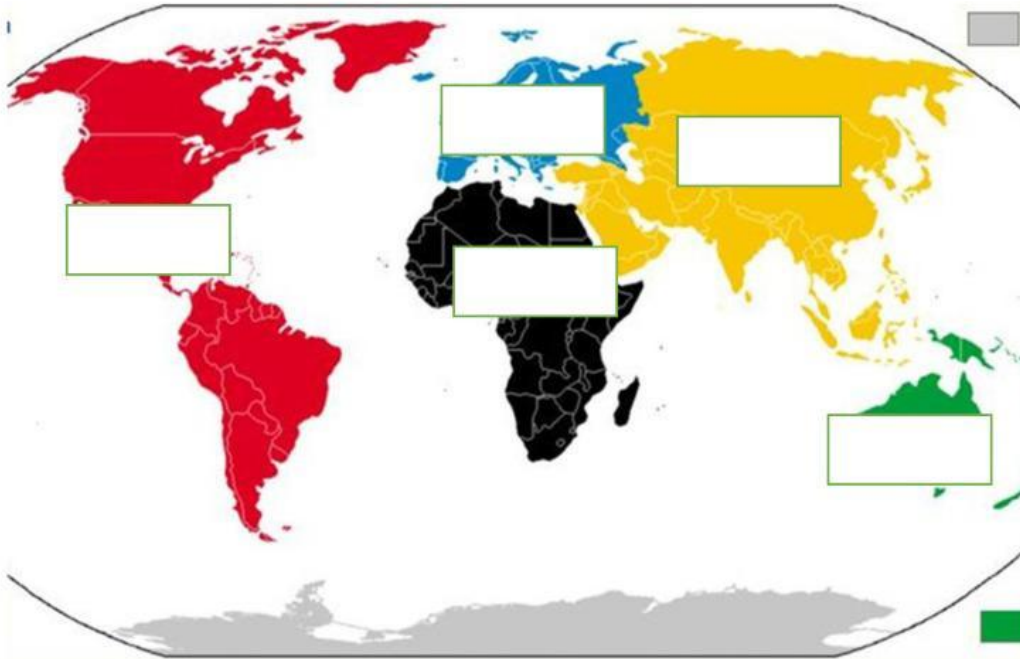
Tiga Peninggalan budaya dunia yang terdapat di Asia yaitu

- (1), (2), dan (3)
- (1), (3), dan (4)
- (2), (4), dan (5)
- (3), (5), dan (6)

17. Tentukan nama samudernya



18. Tariklah garis pada jawaban yang sesuai dengan batas wilayah tiap-tiap benua



Utara : Samudra Artik
Barat : Samudra Atlantik
Selatan : Laut Tengah
Timur : Benua Asia

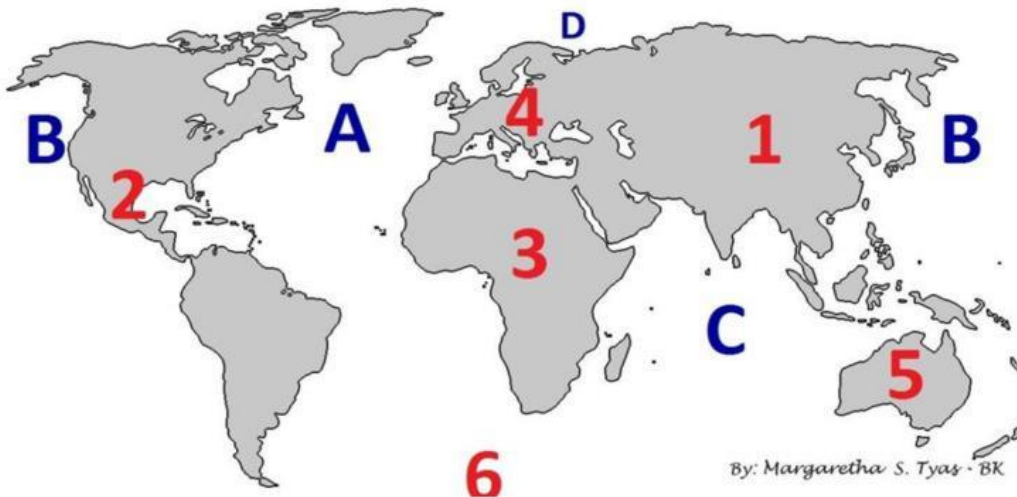
Utara : Samudra Artik
Barat : Samudra Pasifik
Selatan : Benua Antartika
Timur : Samudra Atlantik

Utara : Laut Tengah
Barat : Samudra Atlantik
Selatan dan Timur : Samudra Hindia
Timur Laut : Laut Merah

Utara : Laut Timur, laut Arafuru, Selat Tores
Barat : Samudra Hindia
Selatan : Samudra Hindia, Selat Bass
Timur : Laut Koral, Laut Tasman

Utara : Samudra Artik
Barat Daya : Laut Tengah, laut Merah
Selatan : Samudra Hindia
Timur : Samudra Pasifik, Selat Bering

19. Tariklah jawaban yang sesuai dengan benua dan samudranya



By: Margaretha S. Tyas - BK

ASIA

AFRIKA

AMERIKA

ANTARTIKA

EROPA

AUSTRALIA

Samudra Atlantik

Samudra Pasifik

Samudra Hindia

Samudra Arktik

20. Daftar Negara di Benua Amerika berdasarkan HDI /IPM

HDI/IPM	NAMA NEGARA
Tinggi	Meksiko
Sedang	Bolivia
Rendah	haiti

HAITI

BOLIVIA

MEKSIKO

21. Tariklah garis pada pernyataan kearah jawaban di sebelah kanan!

Suku bangsa Nodik

Perancis, Spanyol, Portugis, Italia

Suku bangsa Slavia

Rusia, Ceko, Polandia, Slowakia

Suku bangsa Mediterania

Jerman, Belanda, Inggris, Denmark

Rusia, Ceko, Polandia, Italia

22. Secara geografis Benua Asia dibagi menjadi lima kawasan, yaitu Asia Barat, Asia Timur, Asia Selatan, Asia Tengah, Asia Tenggara. Negara yang termasuk Asia Selatan adalah...(jawaban bisa lebih dari satu)

Sri Lanka, Pakistan, India

Myanmar, Thailand, Kamboja

Maladewa, Bhutan, Nepal

Tiogkok, Jepang, Taiwan

23. Penduduk Eropa sangat beragam, namun sebagian besar penduduknya keturunan ras Kaukasoid yang terbagi dalam lima suku bangsa yaitu, antara lain... (jawaban bisa lebih dari satu)

Suku bangsa Mediterania

Suku bangsa Slavia

Suku bangsa Negroid

Suku bangsa Nordik

24. Jepang adalah negara dengan komoditas utama produksi barang elektronik dan kendaraan bermotor yang pasarannya sudah merambah ke berbagai penjuru dunia. Tidak heran jika pendapatan perkapita penduduk Jepang pada tahun 2016 tertinggi di Asia dan mendapat julukan Macan Asia. Indonesia merupakan salah satu negara dengan

pengguna produk elektronik dan kendaraan bermotor dari Jepang. Meskipun komoditas utama berupa produksi barang elektronik dan kendaraan bermotor, Jepang mengimpor bijih besi dan mentah dari Indonesia. Jepang juga mengusahakan pertanian dan perikanan dengan teknologi maju. Keuletan penduduk Jepang menjadi salah satu penyebab kemajuan negara ini.

Perhatikan pernyataan berikut!

- (1) Kondisi geografis Jepang tidak mendukung pengembangan sektor pertanian
- (2) Jepang tidak memiliki kekayaan bahan tambang yang cukup sebagai bahan baku industri
- (3) Jepang memprioritaskan perekonomian pada sektor industri
- (4) Pasar industri utama Jepang adalah negara-negara di Benua Eropa

Pernyataan yang benar adalah....

- (1), (2), dan (3)
- (1), (2), dan (4)
- (1), (3), dan (4)
- (2), (3), dan (4)

25. Tariklah jawaban yang sesuai dengan wilayah di negara Australia



New South Wales

Australia Barat

Australia Selatan

Australia Utara

Queensland

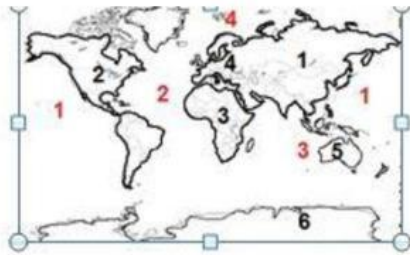
Tasmania

Victoria

26. Selain sektor industri, perekonomian Jepang juga ditunjang dari sektor pertanian. Beberapa faktor yang mendukung kemajuan sektor pertanian Jepang, adalah...

- Memiliki lahan pertanian yang luas
- Memiliki mesin-mesin yang canggih
- Pengolahan lahan pertanian dengan giat
- Pemanfaatan iptek untuk menciptakan varietas baru yang unggul

27. Perhatikan peta di bawah ini !



Samudra Atlantik ditunjukkan pada peta nomer...

- 1
 - 2
 - 3
 - 4
28. Kualitas penduduk suatu negara dapat diukur melalui Indek Pembangunan Manusia (IPM). Angka IPM didapat setelah menghitung dimensi yang berkaitan dengan kesejahteraan suatu negara. Dimensi tersebut adalah...
- A Kesehatan, pendidikan dan standar hidup
 - B Pendidikan, sosial budaya, kesehatan
 - C Kesehatan, Pendidikan, politik ekonomi
 - D Sosial budaya, kesejahteraan, politik
29. Penduduk di Benua Asia berdasarkan komposisi ras terdiri tiga ras. Wilayah Asia Utara mayoritas rasnya adalah...
- A Mongoloid
 - B Negroid
 - C Kaukasoid
 - D Negroid dan Mongoloid
30. Letak geografis benua Asia (Beri tanda centang)

Batas- batas Benua Asia	Bagian Utara	Bagian Selatan	Bagian Timur	Bagian Barat
Selat Bering dan Samudera Pasifik				
Samudera Arktik				
Laut Kaspia, Laut Hitam				
Samudera Hindia				