


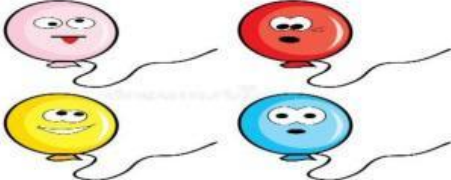


**Une con una línea el número de objetos con el numero que le corresponde**

<div>1</div> <div>JOINING 1</div>	<div>JOINING 3</div> <div></div>
<div>2</div> <div>JOINING 2</div>	<div>JOINING 1</div> <div></div>
<div>3</div> <div>JOINING 3</div>	<div>JOINING 2</div> <div></div>
<div>4</div> <div>JOINING 4</div>	<div>JOINING 4</div> <div></div>

Palomea “ si o no” según la respuesta correcta

¿Su vestido es rojo?



Si  
TICK:YES

NO  
TICK:NO

¿son ojos son color azul?



NO  
TICK:NO

Si  
TICK:YES

¿El niño tiene gorra?



NO  
TICK:NO

Si  
TICK:YES

# Responde las preguntas de forma correcta

¿Menciona cinco figuras geométricas?

Selecc: respuesta libre

¿Menciona la fórmula para sacar el perímetro del cuadrado?

Selecc: respuesta libre

¿Menciona la formula para sacar el área del cuadrado?

Selecc: respuesta libre

Un polígono de 6 lados se llama:

A) Cuadrilátero select:no

B) Heptágono select:no

c) Hexágono select:yes

Un ángulo de  $90^\circ$  se llama:

A) Agudo select:no

B) Recto select:yes

C) Obtuso select:no

El ángulo de 315 grados se llama:

A) Obtuso select:yes

B) Extendido select:no

C) Recto select:no

**Arrastra y clasifica los objetos en la tabla según su color**

<b>ROJO</b>	<b>AMARILLO</b>	<b>AZUL</b>
<b>Drag:1</b>	<b>Drag:2</b>	<b>Drag:3</b>
<b>Drag:1</b>	<b>Drag:2</b>	<b>Drag:3</b>

