



SOAL EVALUASI

BAB 2 HARMONI DALAM EKOSISEM
TOPIK A : MEMAKAN DAN DIMAKAN
A.1 RANTAI MAKANAN



KELAS 5 FASE C



Name _____

Date _____

Pilihan Ganda

1. Rantai makanan adalah hubungan makan dan dimakan dalam suatu ekosistem sebagai upaya untuk mendapatkan.....

- ☐ Gaya
- ☐ Usaha
- ☐ Gerak
- ☐ Energi

2. Perhatikan pengelompokkan hewan berikut!

karnivora

herbivora

omnivora


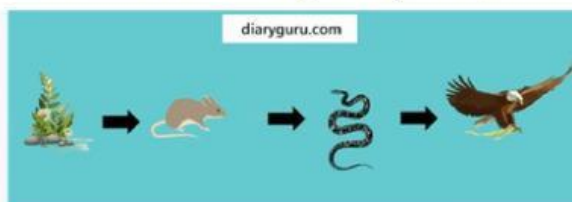
kanibal

Pada sebuah rantai makanan terdapat konsumen tingkat 1. Hewan yang termasuk konsumen tingkat 1 ditunjukkan oleh nomor

- ☐ 1 dan 2
- ☐ 2 dan 3
- ☐ 3 dan 4
- ☐ 1 dan 4

Menghubungkan

3. Perhatikan gambar di bawah ini dan tarik garis pada pasangan yang benar !


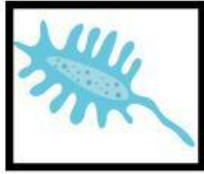




Konsumen 2

Konsumen 1

Menjodohkan

4. Letakkan gambar yang ada di dalam kotak sesuai dengan perannya!



Pernyataan

5. Susunlah rantai makanan di bawah ini dengan tepat !





ISIAN SINGKAT



Isilah titik-titik di bawah ini dengan jawaban yang paling benar



	Makhluk hidup yang memakan makhluk hidup lainnya disebut.....
	Makhluk hidup yang berperan sebagai puncak rantai makanan yaitu
	Makhluk hidup yang dapat memproduksi makanannya sendiri disebut
	Rantai makanan adalah hubungan makan dan dimakan dalam suatu ekosistem sebagai upaya untuk mendapatkan.....
	Bagaimana tumbuhan mendapatkan makanannya ...

