



Latihan Perkumuhan dan Penyahtinjaan

1. Lengkapkan maksud perkumuhan dan penyahtinjaan dengan pilihan jawapan dibawah.

tinja

buangan

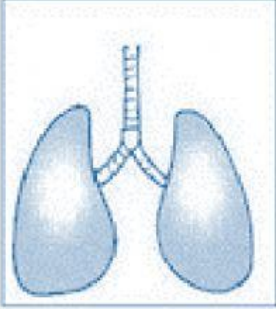

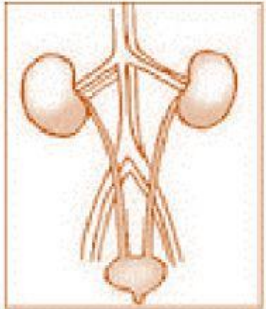
dubur

bahan

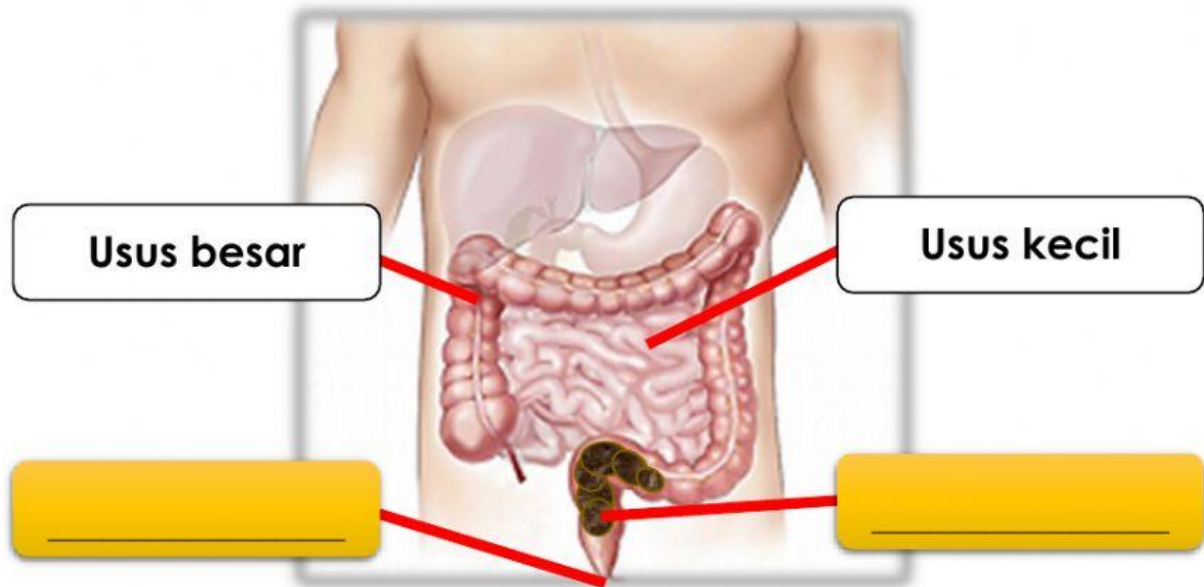
a. **Perkumuhan** : Proses penyingkiran _____ dari badan.

b. **Penyahtinjaan** : Proses penyingkiran _____ melalui _____.

2. Namakan organ perkumuhan berikut. Kemudian, senaraikan hasil perkumuhan bagi setiap organ itu.

Gambar Organ	Nama Organ	Hasil Perkumuhan
	_____	Membebaskan _____ _____ dan wap _____.
	_____	Merembeskan _____.
	_____	Menyingkirkan _____.

3. Rajah berikut menunjukkan organ yang terlibat proses penyahinjaan. Labelkan ruangan yang kosong.



4. Baca pernyataan dibawah dan pilih jawapan yang tepat.

"Tinja individu itu keras dan menyebabkannya mengalami kesukaran untuk membuang air besar"

Apakah penyakit yang mungkin dihadapinya jika masalah sembelit berlarutan ?
Tandakan (Y) pada jawapan yang betul dan (X) pada jawapan yang salah.

_____ Batu Karang

_____ Radang usus

_____ Obesiti

Latihan Tamat