








TEMA 1. LOS NÚMEROS NATURALES

1. El sistema de numeración egipcio

Los antiguos egipcios utilizaban los siguientes símbolos:

						
1	10	100	1 000	10 000	100 000	1 000 000
palo	asa	cuerda	flor	dedo	rana	hombre

Se trataba de un sistema de numeración _____.

Escribe los siguientes números en notación decimal:

9 8 1 1 1 f	
f 9 8 8 1 1 1 1	
9 9 8 1 1 f f	
f f 9 8 1 1 1 1	
9 8 8 8 9 9 1	
9 9 8 8 8 f 1 1 1	
8 8 8 1 1 1 1	
9 8 1 1 1 1 1 1	

Relaciona los números egipcios con los números en notación decimal:

f f 9 8 1 1 1 1
9 8 8 8 9 9 1
9 9 8 8 8 f 1 1
8 8 8 1 1 1 1
9 9 8 1 1 1 f

34
2114
1212
1232
331