



¡A sumar!

Une con una flecha los
resultados de las siguientes
cuentas

$10 + 0 =$

9

$5 + 3 =$

2

$7 + 4 =$

10

$5 + 4 =$

11

$2 + 0 =$

8

¡A contar!

Cuenta las flores y arrastra los números a los casillos para completar la suma.

2 - 4 - 3 - 3 - 1 - 5 - 4 - 2 - 6



$$\boxed{} + \boxed{} = \boxed{}$$



$$\boxed{} + \boxed{} = \boxed{}$$




$$\boxed{} + \boxed{} = \boxed{}$$

CUENTA Y MARCA


Cuenta las plantas y marca el número correcto.




1 3 5 2



1 4 5 2



3 1 5 6











2 6 5 4

CONTEMOS MASCOTAS!

Cuenta y escribe tus respuestas en los siguientes cuadros.



	<input type="text"/>		<input type="text"/>		<input type="text"/>		<input type="text"/>
	<input type="text"/>		<input type="text"/>		<input type="text"/>		<input type="text"/>