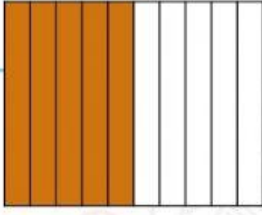


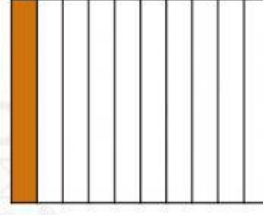
تمارين ذاتية

ظلل النموذج. ثم اكتب العدد العشري.

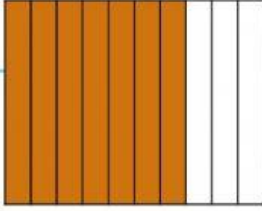
4. خمسة من عشرة



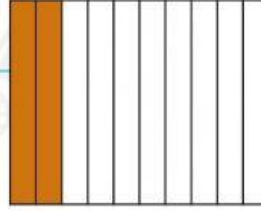
3. واحد من عشرة



6. سبعة أعشار



5. عُشران



عنوان الدرس:

الأعشار
الأجزاء من
عشرة

نواتج التعلم

تمثيل و توضيح
الأعشار
(الأجزاء من
عشرة)

التمارين الذاتية

صفحة 641