





Họ và tên:.....



PHIẾU HỌC TẬP CUỐI TUẦN 3



Bài 1: Viết dấu + vào ô trống có nhóm số lượng nhiều hơn



| | |
|---|---|
|  |  |
| <input type="checkbox"/> | <input type="checkbox"/> |



| | |
|--|---|
|  |  |
| <input type="checkbox"/> | <input type="checkbox"/> |

Bài 2: Làm cho bằng nhau

| |
|---|
|  |
|  |

| |
|--|
|  |
|  |

Bài 3: Số?

a. Cho các số : 4 , 7 , 9 , 2

Số bé nhất:

Số lớn nhất :

b. Cho các số: 10 , 6 , 7 , 8 , 9 , 0

Số bé nhất:


Số lớn nhất :

c. Cho các số : 0 , 1 , 2 , 3 , 4 , 5 , 6 , 7 , 8 , 9 , 10

Số lớn nhất :

Số lớn nhất có một chữ số:

Bài 4: Hãy điền số từ 1 đến 6 vào ô trống theo thứ tự từ quả lớn nhất đến quả nhỏ nhất?



Bài 5: Sắp xếp các số: 7, 1, 8, 3, theo thứ tự:

- Từ bé đến lớn :

| | | | |
|--|--|--|--|
| | | | |
|--|--|--|--|

- Từ lớn đến bé:

| | | | |
|--|--|--|--|
| | | | |
|--|--|--|--|

Bài 6: Nối hình với chữ tương ứng:



bề bề

ô đò

bò

cờ đỏ

dê

cá cờ



Bài 7: Nối :

đỏ

bờ

bề

bà

đê

ba

đò

cá

