

ACADEMIA

CONCURSO DE MATEMÁTICA



RAZONAMIENTO LÓGICO

Dra: Marlene Espinoza Rivera

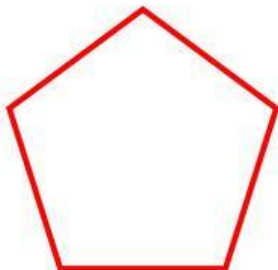
PREGUNTA 01:

¿Cuántas pelotas faltan para seis?
Escribe tu respuesta.



PREGUNTA 02:

¿Cuántos lados tiene la figura?
Escribe tu respuesta.



PREGUNTA 03:

¿Cuántas abejitas faltan para una docena?
Escribe tu respuesta.



PREGUNTA 04:

¿Cuántos perritos faltan para tener 8?
Escribe tu respuesta.




PREGUNTA 05:


Cuenta la mitad de pelotas.
Escribe tu respuesta.

**PREGUNTA 06:**

Ana tiene el doble de peras que ves.
Escribe tu respuesta.

**PREGUNTA 07:**

¿Qué número falta en la sucesión?



PREGUNTA 08:

Completa el número que falta:

9	+	7	=	
---	---	---	---	--

PREGUNTA 09:

¿Cuántos globos verdes ves ?

**PREGUNTA 10:**

¿Qué número continúa?

4	6	8	
---	---	---	--

Dra.: Marlene E Spinoza Rivera