

Pendidikan Muzik Tahun 5 - Pentaksiran

Nama :

Kelas :

1. Padankan meter bagi corak irama tersebut.


a)



b)



c)



2. Dengar bunyi alat perkusi dan suaikan dengan corak irama yang betul.





a)



b)



c)



d)



3. Tulis maksud dinamik yang dimainkan pada corak irama tersebut.

a)



=

b)



=

c)



=

d)



=