

Nome _____

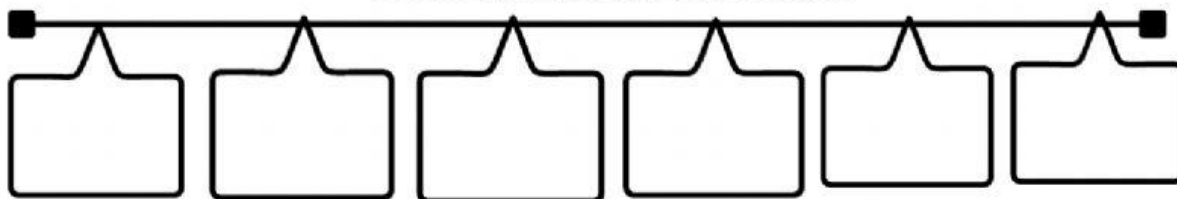
Nome _____

Turma _____

Data _____

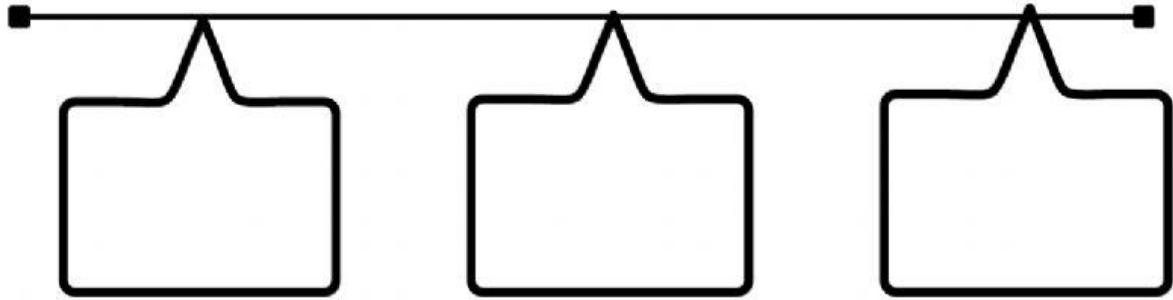
ORGANIZE A LINHA DO TEMPO DOS ANIVERSARIANTES DE MAIO DE ACORDO COM AS INFORMAÇÕES ABAIXO:

LINHA DO TEMPO ANIVERSARIANTES DE MAIO

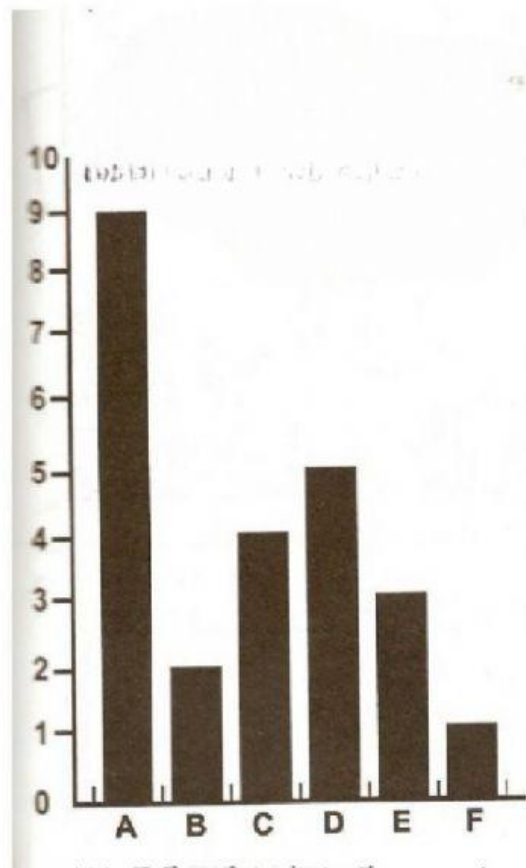


ORGANIZE A LINHA DO TEMPO DOS ANIVERSARIANTES DE JANEIRO DE ACORDO COM AS INFORMAÇÕES ABAIXO:

LINHA DO TEMPO ANIVERSARIANTES DE JANEIRO



OBSERVE NO GRÁFICO O CONJUNTO DE BRINQUEDOS DE PAULO HENRIQUE E COMPLETE O QUADRO AO LADO.



Brinquedos	Quantidade
A - Carros	<input type="text"/>
B - Helicóptero	<input type="text"/>
C - Bolas	<input type="text"/>
D - Jogos	<input type="text"/>
E - Miniaturas	<input type="text"/>
F - Patins	<input type="text"/>