


➤➤ **РОЗБИВАЄМО ОБ'ЄКТИ НА ГРУПИ  
ЗА СПІЛЬНОЮ ОЗНАКОЮ**

- наступне число
- попереднє число
- частина множини — підмножина

**1** Пограй у гру, перейшовши за посиланням. Тут гра

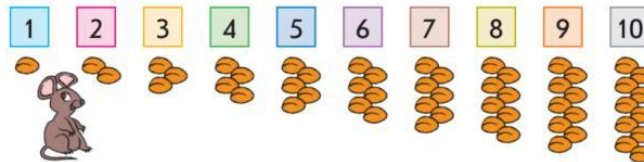
**2** Назви групу (множину). Назви її елементи зліва направо. Познач, що зображено праворуч від груші? ліворуч від черешні?



**3** Назви групу (множину). Познач, хто зображений за хом'яком? перед цу-ням? Хто зображений між мишеням і хом'яком? Скажи, яке за порядком кошеня, якщо лічити зліва направо? справа наліво?



**4** Перевір та познач, де правильно полічили зернини. Назви числа.



**5** Познач, яке число стоїть за числом 7?



Познач, яке стоїть перед числом 5?



Яке наступне число за числом 4?



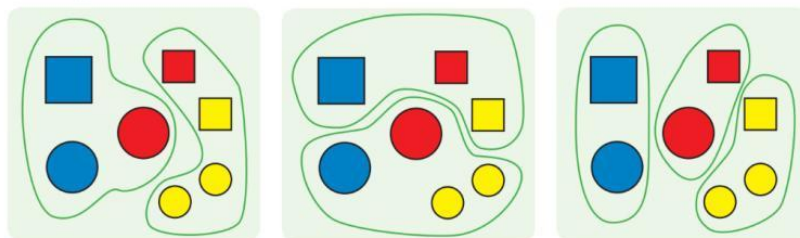
Яке попереднє число до числа 9?



Між якими числами стоїть число 5?



**6** Розглянь кожний малюнок. Назви групу об'єктів (множину). Визнач, за якою ознакою її розбито на частини. **Частина множини — це підмножина.**



**7** Продвож ряд

