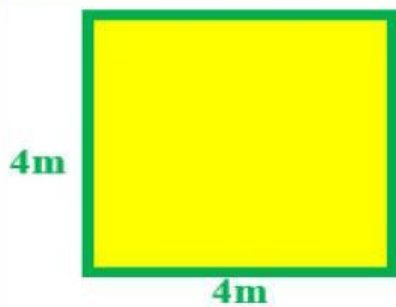


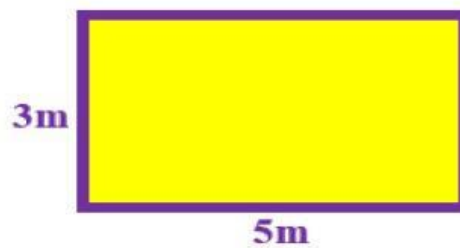
FICHA DE REFUERZO DE PERÍMETRO



Perímetro del cuadrado

$$P = 4 + 4 + 4 + 4$$

$$P = 16 \text{ cm}$$




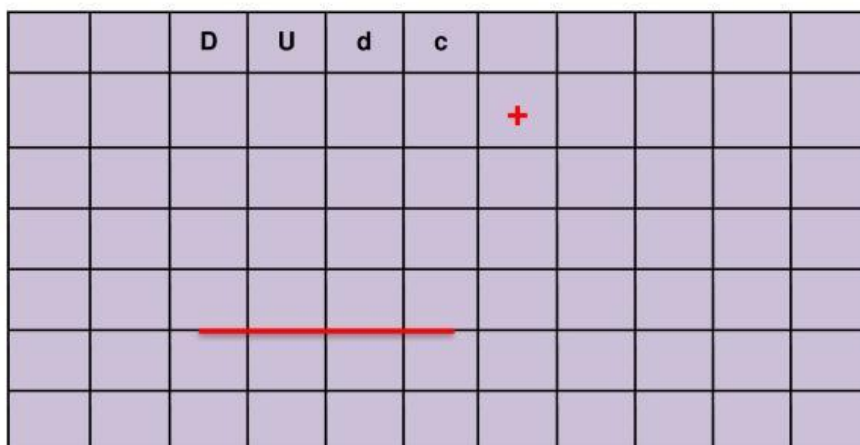
Perímetro del rectángulo

$$P = 3 + 5 + 3 + 5$$

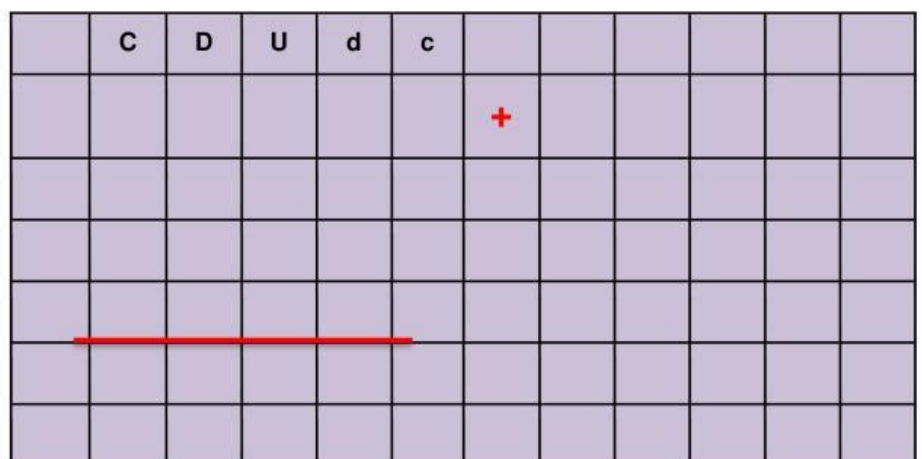
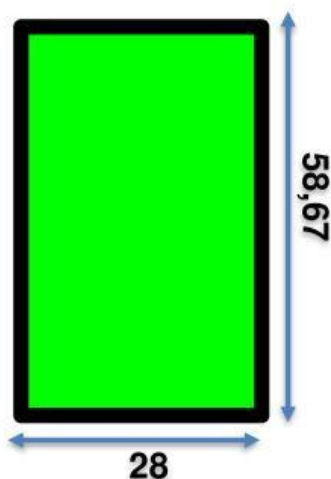
$$P = 16 \text{ cm}$$



1.- Hallar el **perímetro** del cuadrado.




2.- Hallar el **perímetro** del rectángulo




3.- Selecciona la respuesta correcta.

- a) Si el lado de un cuadrado mide 3,23 cm
¿Cuánto medirá el perímetro de 6 cuadrados?



Respuesta

- b) Un terreno de forma rectangular el ancho mide 13,4 m y el largo mide el triple del ancho. ¿Cuánto mide el perímetro del terreno?



Respuesta

