

Nama :

Kleas :

A. Menjodohkan

Hubungkan dengan garis pernyataan di sebelah kanan dengan pernyataan sebelah kiri yang tepat.

Kunci
Determinasi

• berperan pada
pembuatan
tempe

Tujuan Klasifikasi

• dua pernyataan
yang berlawanan

Takson

• Belum memiliki
membran inti

Prokariotik

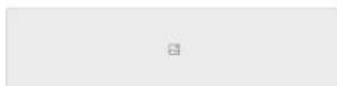
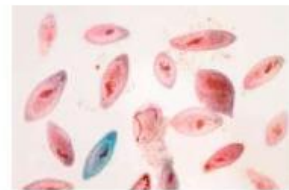
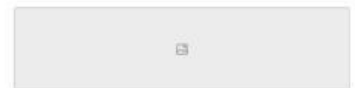
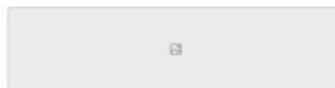
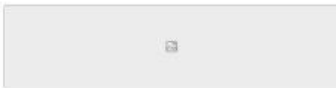

• kelompok yang
memiliki banyak
persamaan

Rhizopus oryzae

• memudahkan
mengenal makhluk
hidup yang beraneka
ragam

B. TAKE AND DROP

Seret gambar dan letakkan pada bagian yang tepat



Monera

Fungi

Animalia

Protista

Plantae

Tambahkan subjudul

C Isian

Jawablah Pertanyaan Berikut dengan Benar.

- 1. Sebutkan 3 ciri moera!**
- 2. Protista dibedakan menjadi 3 , sebutkan dan beri contoh satu organismenya!**
- 3. Sebutkan urutan takson dari kelompok yang paling besar sampai yang paling kecil!**
- 4. Ditemukan satu organisme yang memiliki ciri tubuhnya tersusun atas satu sel, bersifat prokariotik dan berkembang biak dengan membelah diri. Termasuk kelompok kingdom apakah organisme tersebut.**