



## ใบงาน ๐๗ : กฎจราจรน่ารู้

๑. ให้นักเรียนชมคลิปวิดีโอที่กำหนดให้แล้วตอบคำถาม

๑.๑ กฎหมายจราจร : ถ้ารถ ๒ คันมาถึงแยก  
พร้อมกัน ให้รถที่วิ่งทางตรงไปก่อน

รถคันไหนหยุดรอ

รถคันไหนไปก่อน



๑.๒ กฎหมายจราจร : ถ้ารถ ๒ คันมาถึงทางแยก  
พร้อมกัน ให้รถที่วิ่งทางย่อย หลุดชะลอให้รถ  
ทางหลักไปก่อน

รถคันไหนหยุดรอ

รถคันไหนไปก่อน



ชื่อ-สกุล ..... ชั้น ..... เลขที่ .....

วันที่ ..... เดือน ..... พ.ศ. ....



ป. ๑ / ผ. ๑-๐๗

๑.๓ กฎหมายจราจร : ถ้ารถทุกคันมาถึงทางแยกพร้อมกัน ให้รถที่วิ่งมาทางด้านซ้ายไปก่อนเสมอ

รถคันไหนได้ไปเป็นคันที่ ๑

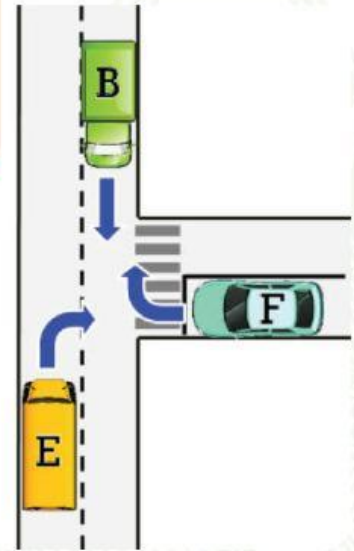
.....  
.....

รถคันไหนได้ไปเป็นคันที่ ๒

.....  
.....

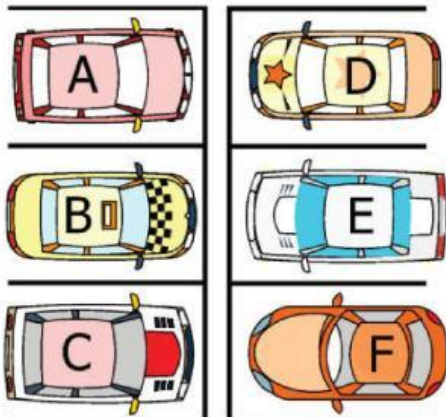
รถคันไหนได้ไปเป็นคันที่ ๓

.....  
.....




๒. ณ ลานจอดรถแห่งหนึ่ง เมื่อถ่ายภาพลานจอดรถในวันเสาร์และวันอาทิตย์ จะได้ดังรูป

วันเสาร์



วันอาทิตย์



ชื่อ-สกุล ..... ชั้น ..... เลขที่ .....

วันที่ ..... เดือน ..... พ.ศ. ....



ป. ๑ / ผ. ๑-๐๗

๒.๑ รถที่จอดเฉพาะวันเสาร์ คือ

---

---

---

---

๒.๒ รถที่จอดเฉพาะวันอาทิตย์ คือ

---

---

---

---

๒.๓ รถที่จอดทั้งวันเสาร์และวันอาทิตย์ คือ

---

---

---

---

๒.๔ ถ้ามีรถที่จอดค้างคืนวันเสาร์ นักเรียนคิดว่าจะเป็นรถคันใด  
เพราะเหตุใด

---

---

---

---