

REALIZA ESTAS SUMAS DE TRES CIFRAS

$$\begin{array}{r} 354 \\ + 435 \\ \hline \end{array}$$

$$\begin{array}{r} 267 \\ + 532 \\ \hline \end{array}$$

$$\begin{array}{r} 472 \\ + 416 \\ \hline \end{array}$$

$$\begin{array}{r} 762 \\ + 127 \\ \hline \end{array}$$

$$\begin{array}{r} 542 \\ + 357 \\ \hline \end{array}$$

$$\begin{array}{r} 327 \\ + 651 \\ \hline \end{array}$$

$$\begin{array}{r} 631 \\ + 268 \\ \hline \end{array}$$

$$\begin{array}{r} 470 \\ + 218 \\ \hline \end{array}$$

REALIZA ESTAS RESTAS DE TRES CIFRAS

$$\begin{array}{r} 732 \\ - 421 \\ \hline \end{array}$$

$$\begin{array}{r} 845 \\ - 632 \\ \hline \end{array}$$

$$\begin{array}{r} 674 \\ - 571 \\ \hline \end{array}$$

$$\begin{array}{r} 596 \\ - 270 \\ \hline \end{array}$$



$$\begin{array}{r} 945 \\ - 714 \\ \hline \end{array}$$



$$\begin{array}{r} 531 \\ - 210 \\ \hline \end{array}$$

$$\begin{array}{r} 678 \\ - 154 \\ \hline \end{array}$$

$$\begin{array}{r} 459 \\ - 335 \\ \hline \end{array}$$

ESCRIBE EL NÚMERO ANTERIOR Y POSTERIOR

	<input type="text"/>	300	<input type="text"/>	
<input type="text"/>		450		<input type="text"/>

	<input type="text"/>	590	<input type="text"/>	
<input type="text"/>		699		<input type="text"/>

RESUELVE LOS SIGUIENTES PROBLEMAS

En una tienda de disfraces reciben 230 disfraces de brujas y 60 de piratas. ¿Cuántos disfraces reciben en total?



DATOS

Y

OPERACIÓN

SOLUCIÓN

disfraces reciben en total

En un tren hay 320 asientos. Están ocupados 105. ¿Cuántos asientos quedan libres?



DATOS

Y

OPERACIÓN

SOLUCIÓN

asientos quedan libres