

Nome: _____ Turma: _____

Atividade sobre área e perímetro

- 1 Considerando que cada quadradinho a seguir tem 1 cm de lado, preencha a tabela a seguir:

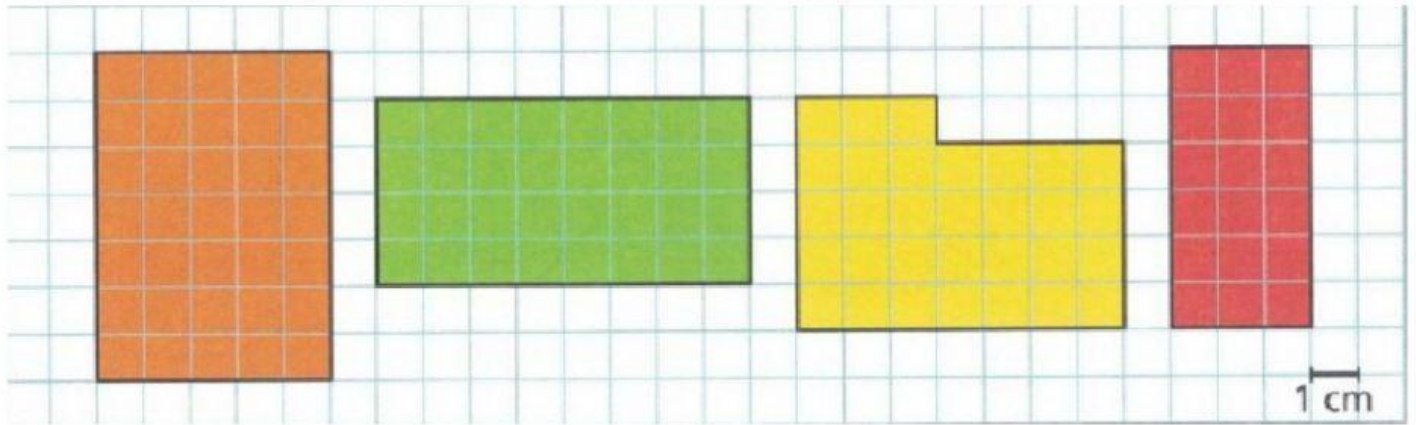


Figura	Perímetro	Área
Laranja	cm	cm ²
Verde	cm	cm ²
Amarela	cm	cm ²
Vermelha	cm	cm ²

- 2 Calcule a área das figuras a seguir.




12 cm

cm²



13 cm

cm²



8 cm


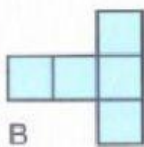

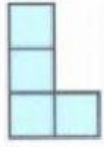




cm²



5 cm

cm²

- 3 Complete o quadro, usando como unidade de medida de área  e como unidade de medida de comprimento .

	POLÍGONO					
						
Perímetro em 						
Área em 						

- 4 Responda de acordo os resultados do item anterior.

Selecione as letras correspondentes as figuras que tem a mesma área.

(A) (B) (C) (D) (E) (F)

Selecione as letras correspondentes as figuras que tem o mesmo período e a mesma área.

(A) (B) (C) (D) (E) (F)

- 5 Preencha a tabela de acordo com a planta da casa.



Cômodos	Perímetro (m)	Área (m ²)
Sala	<input type="text"/>	<input type="text"/>
Quarto azul	<input type="text"/>	<input type="text"/>
Quarto rosa	<input type="text"/>	<input type="text"/>
Banheiro	<input type="text"/>	<input type="text"/>
Cozinha	<input type="text"/>	<input type="text"/>
Corredor	<input type="text"/>	<input type="text"/>