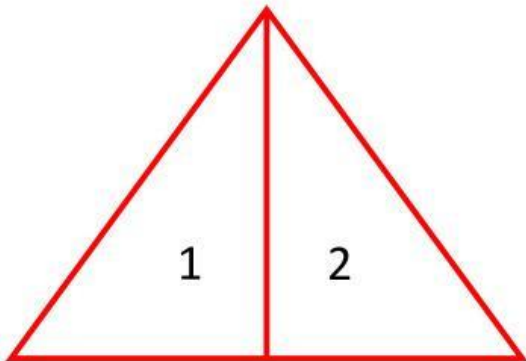




Conteo de Triángulos

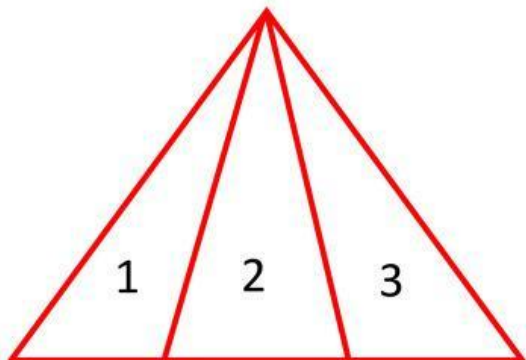
Método Práctico

1.- ¿Cuántos triángulos hay en total?



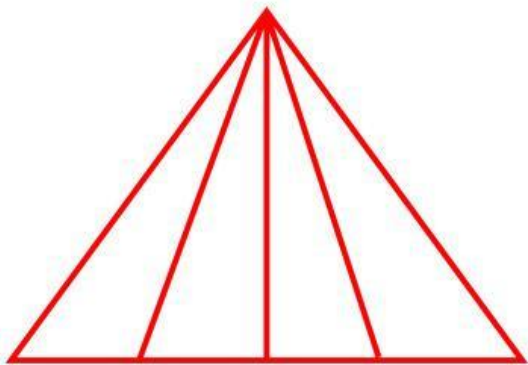
+ = Triángulos

2.- ¿Cuántos triángulos hay en total?



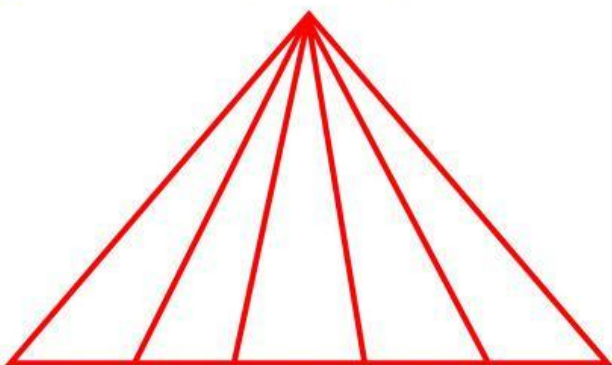
+ + = Triángulos

3.- ¿Cuántos triángulos hay en total?



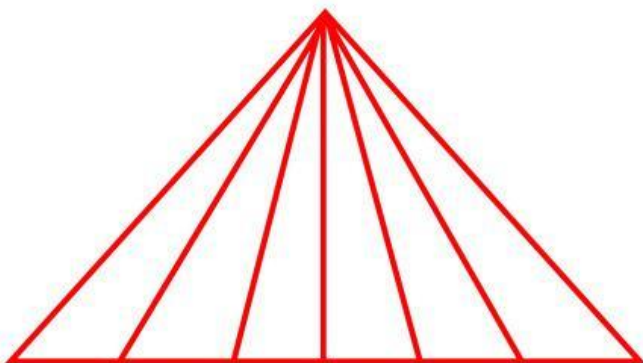
+ + + = Triángulos

4.- ¿Cuántos triángulos hay en total?



+ + + + = Triángulos

5.- ¿Cuántos triángulos hay en total?



+ + + + + = Triángulos