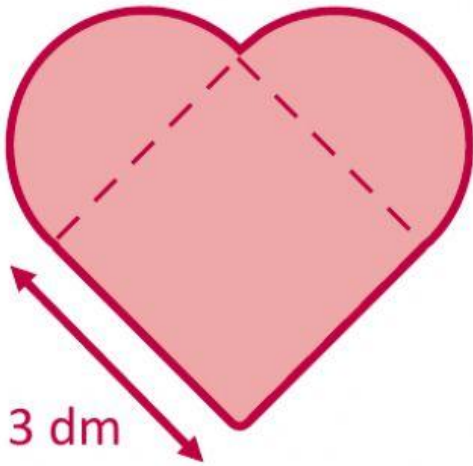


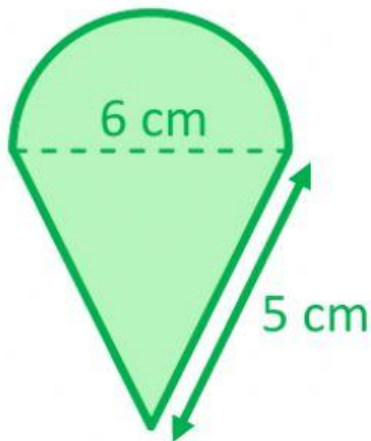


Calcula el perímetro y el área de las siguientes figuras. Redondea el valor a la unidad. No escribas las unidades. Todo el proceso (descomposición de figuras, cálculo total...) debe estar reflejado en el cuaderno.



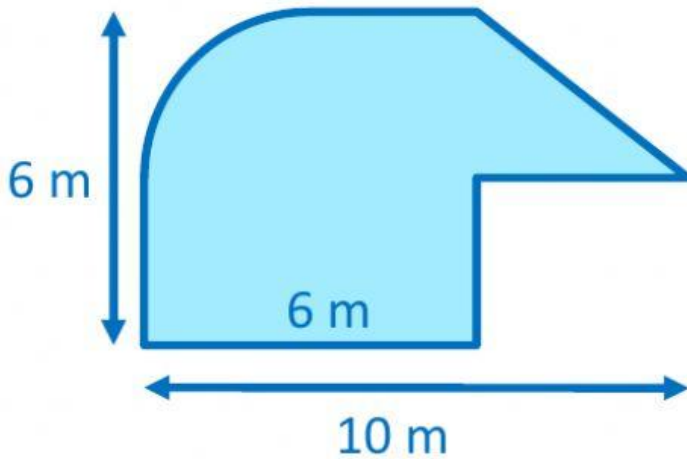
Perímetro:

Área:



Perímetro:

Área:



Perímetro:

Área: