

Pilihlah jawaban yang tepat sesuai pertanyaan!

1. Tono, Andi, dan Maruli sedang berlatih menari tarian khas daerah. Saat menari mereka membentuk deretan berbaris lurus dari depan ke belakang. Pola lantai yang dipakai dalam tarian tersebut adalah
a. vertikal b. horizontal c. diagonal d. melengkung
2. Pola lantai pada tari berkelompok harus dilakukan dengan
a. bebas c. memperhatikan jumlah penari
b. memperhatikan kostum penari d. dibatasi tiga macam saja
3. Berikut ini yang bukan merupakan fungsi tari adalah
a. sebagai sarana upacara adat c. sebagai media bergerak
b. sebagai sarana hiburan d. sebagai media pertunjukkan

4. Pasangkan gambar tarian daerah dengan keterangan di dalam kotak dengan cara menarik garis!



Tari Piring
Sumatera Barat
Pola Lantai Segienam



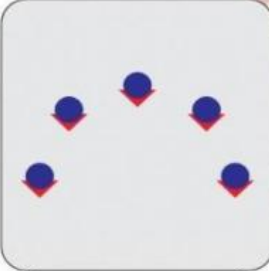
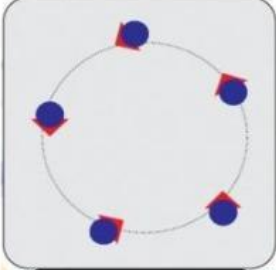
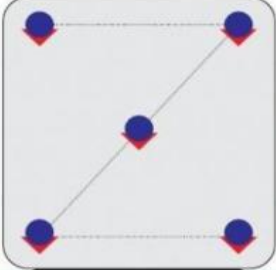


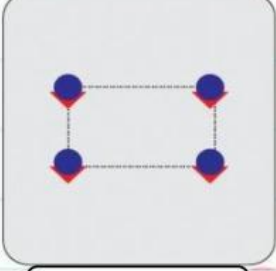



Tari Kecak
Bali
Pola Lantai Lingkaran



Tari Saman
Aceh
Pola Lantai Horizontal

5. Tentukan nama setiap pola rantai berikut dengan cara memilih salah satu nama yang tepat di dalam kotak!

		
<input data-bbox="349 566 572 624" type="text"/>	<input data-bbox="683 566 906 624" type="text"/>	<input data-bbox="1016 566 1240 624" type="text"/>
		
<input data-bbox="349 918 572 976" type="text"/>	<input data-bbox="683 918 906 976" type="text"/>	<input data-bbox="1016 918 1240 976" type="text"/>
		
<input data-bbox="349 1270 572 1328" type="text"/>	<input data-bbox="683 1270 906 1328" type="text"/>	<input data-bbox="1016 1270 1240 1328" type="text"/>