


Membaca Grafik dengan Skala

Kelas III

Nama :

- Anna dan teman sekelasnya memilih karakter dongeng favorit mereka. Grafik gambar berikut ini menunjukkan pilihan mereka.

Karakter Dongeng Favorit



- a** Ada berapa karakter yang ditunjukkan pada grafik gambar?

- b** Karakter manakah yang paling populer?

- c** Karakter manakah yang paling tidak populer?

- d** 8 anak menyukai Peter Pan. Apa yang diwakili oleh setiap  ?

_____ anak

Sekarang, isilah bagian yang kosong pada grafik gambar.

- e** Berapa banyak anak yang memilih Cinderella sebagai karakter favoritnya?

_____ anak





















- f** Berapa lebih banyak anak yang memilih Putri Salju daripada Peter Pan sebagai karakter favoritnya?

_____ anak

- g** Jumlah anak yang memilih _____ dan _____ sebagai karakter favoritnya sama dengan jumlah anak yang memilih Cinderella.

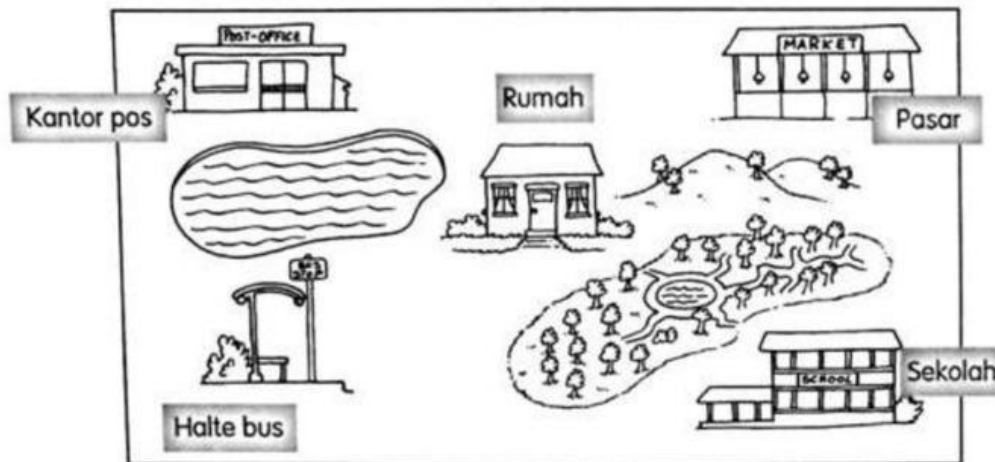
- 2 Grafik gambar berikut ini menunjukkan banyaknya makanan yang dimakan sekelompok anak laki-laki pada hari Sabtu.

Banyak Makanan yang Dimakan



























Martabak		  
Mie		   
Bakso		 
Lemper		  
Nasi uduk		 
Setiap  mewakili 2 porsi makanan.		




- a Mereka memakan _____ porsi martabak.
- b Mereka memakan _____ sejumlah porsi yang sama dengan martabak.
- c Mereka memakan mie _____ porsi lebih banyak daripada nasi uduk.
- d Mereka memakan _____ porsi bakso dan nasi uduk seluruhnya.

- 3 Rumah Dedi terletak di dekat sekolah, halte bus, pasar, dan kantor pos. Dia menggambar grafik gambar untuk menunjukkan seberapa jauh rumahnya dari tempat-tempat tersebut.



Jumlah Langkah dari Rumah

Sekolah	         
Pasar	        
Halte bus	
Kantor pos	     
Setiap  mewakili _____ langkah.	

- a Sekolah terletak 100 langkah dari rumah Dedi.
Setiap  mewakili _____ langkah.
Sekarang, isilah bagian yang kosong pada grafik gambar.
- b Pasar terletak _____ langkah dari rumah Dedi.
- c Rumah Dedi letaknya 50 langkah dari halte bus.
Dia harus menggambar _____  pada grafik.
- d Kantor pos letaknya 80 langkah dari rumah Dedi.
Dia harus menambahkan _____  pada grafik.