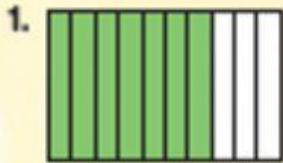
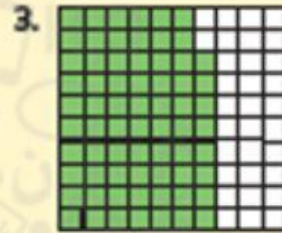


هل أنا مستعد؟

اكتب كسرًا يُمثِّل الجزء الأخضر.







اكتب كلًّا مما يلي على صورة كسر.

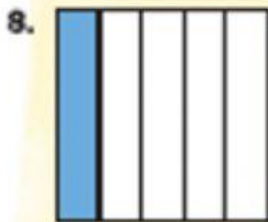
6. عشرون جزءًا من مئة

5. ثمانية أعشار

4. أربعة أعشار

7. هطلت أمطار يوم الثلاثاء تُقدَّر بسبعة أعشار بوصة. اكتبها على صورة كسر.

الجبر أوجد كل مجهول مما يلي.



$$\frac{1}{5} = \frac{\square}{10}$$



$$\frac{4}{5} = \frac{\square}{10}$$

