

4º

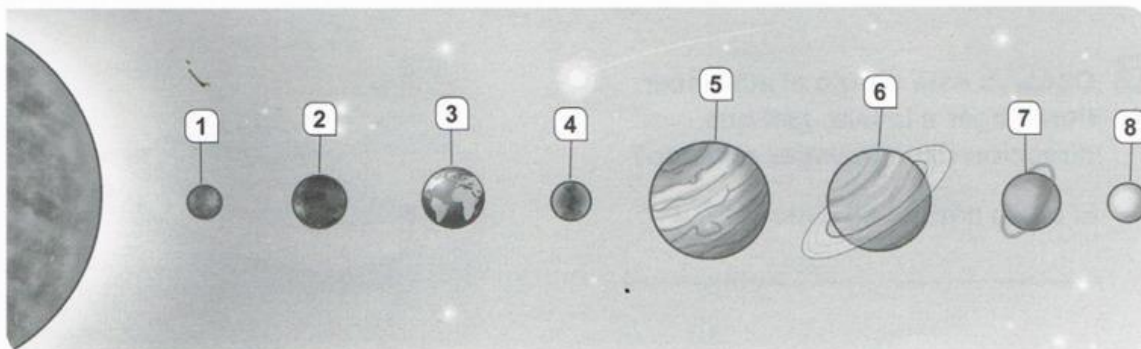
Área de CIENCIAS
SOCIALES

CRA "Río
Pusa"



EVALUACIÓN INICIAL.

1. Arrastra el nombre de cada astro al número que corresponde en el dibujo.



Neptuno

Urano

Tierra

Saturno

Venus

Marte

Mercurio

Júpiter


2. Observa el dibujo y contesta las siguientes preguntas

Los días y las noches - Rotación - 24 horas, 1 día

• ¿Qué movimiento de la Tierra representa?

• ¿Cuánto tarda en dar una vuelta?

• ¿Qué origina este movimiento?



3. Arrastra las palabras en el lugar correspondiente.

Evaporación

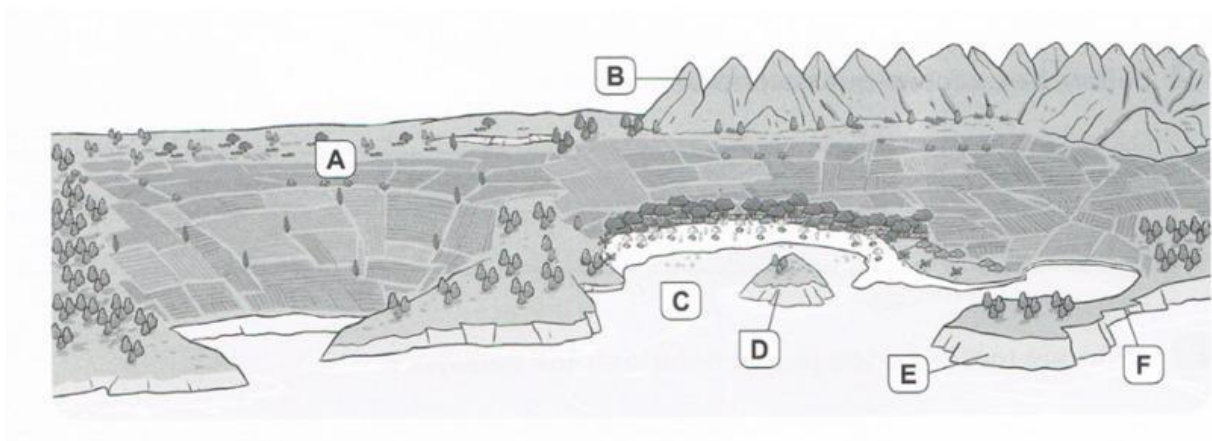
Precipitación

Condensación

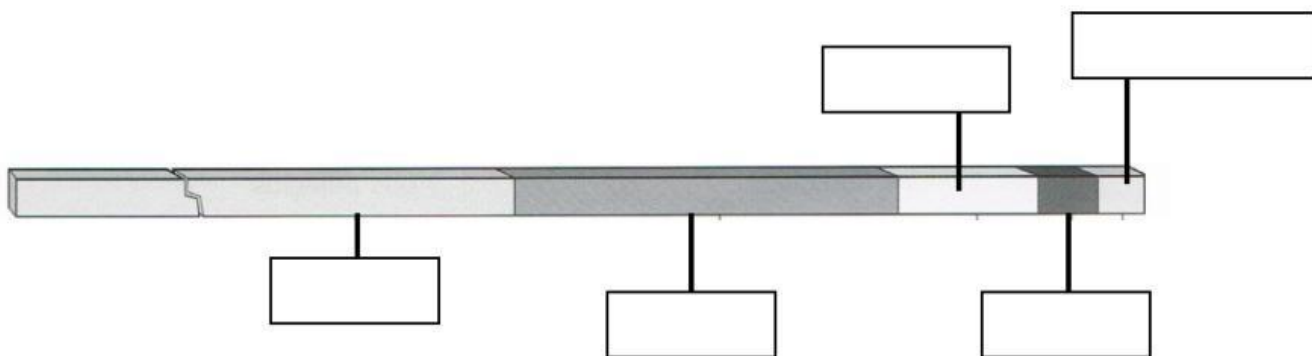
Retorno



4. Selecciona a qué accidentes del relieve corresponde cada letra



5. Escribe cada etapa de la historia al lugar que le corresponde



6. Lee el texto e indica qué tipo de fuentes de información ofrecen

¡Estamos de enhorabuena! En el museo municipal de la localidad han inaugurado una exposición con restos materiales, documentos y recreaciones históricas sobre la Prehistoria y la Edad Antigua.

Y, ¿qué mejor manera de empezar el curso para los alumnos de 4.º EP que haciendo una visita al museo?

Fuente escrita - Fuente oral

El guía del museo que está contando hechos del pasado: _____

La estatua egipcia que aparece al fondo de la sala: _____