



**PEMERINTAH KABUPATEN SINJAI
DINAS PENDIDIKAN
SD NEGERI 136 HULO KEC. SINJAI BARAT**

Jl. Balakia C no.29 Hulo Ke. Tassililu, Kec. Sinjai Barat ☒ 92653 Manipi

SOAL PENILAIAN AKHIR SEMESTER (PAS)

Tema : 2. Udara Bersih Bagi Kesehatan
Kelas/ Smt : V (Lima)/ Ganjil
Tahun Pelajaran: 2023/2024

Nama Siswa :

Mapel	KD	No. Soal	Nilai	Ketuntasan	TTD Guru	TTD Orang Tua
PPKn	3.2	1,2,17,18				
Indonesia	3.2	5,6,7				
IPA	3.2	9,10,11,12				
IPS	3.3	8,13,14,15,16				
SBdP	3.2/3.3	3,4,19,20				

A. PILIHAN GANDA

Jawablah pertanyaan di bawah ini dengan memberi tanda silang (×) pada pilihan jawaban yang paling benar!

Perhatikan teks bacaan di bawah ini! (untuk menjawab soal nomor 1 dan 2)

Hari Menanam Pohon

Indonesia dikatakan sebagai paru-paru dunia. Sebutan itu disematkan karena di Indonesia terdapat hutan yang sangat luas. Daun-daun di hutan mengeluarkan oksigen berlimpah. Oksigen merupakan unsur penting bagi kehidupan.

Namun, sayangnya, hutan kita semakin berkurang akibat kebakaran atau penebangan pohon di hutan secara liar. Oleh karena itu, pemerintah bersama rakyat berusaha mengurangi kerusakan hutan. Salah satu upaya yang dilakukan yaitu menanam kembali pohon di lingkungan.



1. "Hari Menanam Pohon". adalah kegiatan menjaga lingkungan sekitar dengan cara menanam pohon merupakan salah satu ... kita sebagai warga masyarakat.

- A. hak
- B. tanggung jawab
- C. gotong royong
- D. kerja sama

2. Pada gambar bacaan di atas, merupakan salah satu bentuk partisipasi kita terhadap...

- A. diri sendiri
- B. keluarga
- C. masyarakat
- D. bangsa dan negara

Perhatikan teks lagu di bawah! (untuk menjawab soal nomor 3 dan 4)

3. Teks lagu nasional di samping memiliki jenis tangga nada diatonis dengan ciri-ciri

- A. bersifat riang gembira
- B. bersemangat
- C. biasanya diawali dan diakhiri nada do
- D. biasanya diawali dan diakhiri nada la

4. Judul lagu merupakan salah satu judul yang sejenis dengan gambar teks lagu di samping.

- A. Terima kasihku
- B. Indonesia Raya
- C. Hari Merdeka
- D. Garuda Pancasila

GUGUR BUNGA

by: notangia-musik.blogspot.com

3 | 6 6 7 1 2 3 | 4 3 . 1 6 1 | 7 . 7 5 6 4 | 3 . . .

Be tapa ha ti ku takkan rindu telah gu gur pahlawan ku
a pa kini pe lipur lara nan seti a dan perwi ra

0 3 | 2 2 2 3 4 3 2 7 | 2 1 1 7 6 7 6 | 5 . 4 6 | 5 . . 3 |

Be tapa ha ti ku tak akan sedih hamba ditinggal sendir ri Si
Si a pa kah kini pahlawan hati pembela bang-

5 . 7 2 | 1 . . 3 | 5 . 4 3 4 2 4 | 3 . . 1 | 2 . 1 7 1

sa se ja ti Te lah gugur pahlawanku, tu nai sudah jan-

6 7 | 1 . . 3 | 5 . 4 3 4 2 4 | 3 . . 1 | 2 . 1 7 1 6 7

ji bak ti Gu gur satu tumbuh seribu Ta nah a ir ja ya pas-

1 . . 3 | 6 6 7 1 2 3 | 4 3 . 1 6 1 | 7 . 7 5 6 4 | 3 .

ti Gu gur bungaku ditaman bakti di hari ba an Perti wi


0 3 | 2 2 2 3 4 3 2 7 | 2 1 1 7 6 7 6 | 5 . 7 2 | 1 . . |

Ha rum semerbak menambahkan sari Tanah a ir ja ya sakti

B. PILIHAN GANDA KOMPLEKS

Berilah tanda centang (✓) pada jawaban yang benar!

5. Perhatikan gambar percakapan di bawah ini!



Berdasarkan gambar percakapan di atas, berilah tanda centang (✓) mengenai pernyataan kata tanya sesuai dengan fungsinya!

Pernyataan	Benar	Salah
Kata tanya apa, untuk menanyakan nama-nama benda, sebab, akibat, judul, atau tema.		
Kata tanya di mana, untuk menanyakan waktu kejadian suatu peristiwa.		
Kata tanya Bagaimana, untuk menanyakan alasan suatu masalah dalam teks		
Kata tanya berapa, untuk menanyakan jumlah atau banyak benda		

6.

Bacalah teks berikut!**Pernapasan Ikan**

Ikan merupakan salah satu hewan yang hidup di air. Ikan bernapas menggunakan insang. Pada pernapasan ikan, mula-mula insang dalam keadaan tertutup. Air yang mengandung oksigen akan masuk melalui mulut ikan. Lalu, mulut ikan tertutup dan air akan mengalir ke bagian insang yang terbuka. Di dalam insang inilah terjadi pertukaran oksigen dengan karbondioksida.

Berilah tanda centang pada pasangan pertanyaan dan jawaban yang sesuai dengan teks bacaan di samping !

Pertanyaan dan jawaban		Benar	Salah
Pertanyaan : apa alat pernapasan ikan ?	Jawaban : ikan hidup di air		
Pertanyaan : di mana terjadinya pertukaran oksigen dan karbondioksida pada ikan ?	Jawaban : di insang		
Pertanyaan : Bagaimana proses masuknya oksigen pada ikan ?	Jawaban : ketika mulut ikan tertutup, air mengalir ke bagian insang yang terbuka.		
Pertanyaan : kapan air keluar dari tubuh ikan saat bernapas ?	Jawaban : ketika mulut ikan tertutup, air mengalir ke bagian insang yang terbuka.		

7. Bacalah teks di bawah ini !

Hari Menanam Pohon

Indonesia dikatakan sebagai paru-paru dunia. Sebutan itu disematkan karena di Indonesia terdapat hutan yang sangat luas. Daun-daun di hutan mengeluarkan oksigen berlimpah. Oksigen merupakan unsur penting bagi kehidupan.

Namun, sayangnya, hutan kita semakin berkurang akibat kebakaran atau penebangan pohon di hutan secara liar. Oleh karena itu, pemerintah bersama rakyat berusaha mengurangi kerusakan hutan. Salah satu upaya yang dilakukan yaitu menanam kembali pohon di lingkungan.

Tanggal 28 November diperingati sebagai Hari Menanam Pohon. Peringatan hari Menanam Pohon pada tahun 2015 diawali sejak tanggal 26 November. Presiden melakukan penanaman pohon di Taman Hutan Rakyat Sultan Adam, Kalimantan Selatan. Ada 10.000 pohon ditanam di hutan itu. Pohon yang ditanam pun bermacam-macam, termasuk pohon-pohon yang buahnya dapat dimakan.

Kita dapat berperan serta untuk mengembalikan paru-paru dunia. Menanam pohon tidak hanya dapat dilakukan di hutan. Kita dapat menanam pohon di lingkungan sekitar kita. Semakin banyak pohon di lingkungan kita, semakin banyak pasokan oksigen bagi kehidupan.

Berilah tanda (✓) pada kolom benar atau salah yang dianggap sesuai antara pertanyaan dan jawaban !

Pernyataan dan Jawaban	Benar	Salah
1. Pertanyaan : Apa upaya yang dilakukan pemerintah untuk mengurangi kerusakan hutan ? Jawaban : Yaitu dengan menanam kembali pohon di lingkungan.		
2. Pertanyaan : Kapan kegiatan menanam pohon dilakukan ? Jawaban : di Taman Hutan Rakyat.		
3. Pertanyaan : Siapa yang melakukan penanaman pohon di Taman Hutan Rakyat ? Jawaban : Tanggal 28 Oktober.		
4. Pertanyaan : Kapan diperingati sebagai hari menanam pohon ? Jawaban : Yaitu pada tanggal 28 November		

8. Bacalah ilustrasi berikut dan perhatikan gambar yang ada di sampingnya !

Ayahku adalah seorang nelayan. Ayahku ke laut untuk menangkap ikan pada malam hari dan kembali pada pagi hari. Ayahku menangkap ikan menggunakan jala, ayahku dan teman-temannya adalah nelayan tradisional yang mengandalkan kondisi alam bila melaut. Apabila kondisi alam sedang tidak baik maka ayahku dan teman-temannya tidak pergi melaut. Hasil tangkapan ikan ayahku dijual di tempat pelelangan ikan. Ayahku gigih dalam bekerja, dari hasil menangkap ikan itulah beliau menghidupi kami sekeluarga.



Berdasarkan ilustrasi di atas, Berikan tanda (√) pada kolom benar atau salah yang dianggap sesuai dengan jenis kegiatan ekonomi beserta contoh kegiatannya !

Jenis kegiatan ekonomi beserta contoh kegiatan	Benar	Salah
Perkebunan : budi daya ikan nila		
Kehutanan : menanam pohon jati		
Pertambangan : pengolahan batu bara		
Pelayanan Jasa : menjual hasil pertanian		

C. MENJODOHKAN

9. Perhatikan gambar di bawah ini!



(i)



(ii)



(iii)



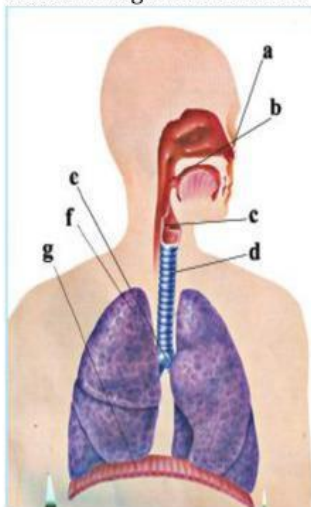
(iv)

Berdasarkan gambar di atas, tariklah garis dari huruf gambar hewan dengan alat pernapasan yang sesuai !

Gambar	
i	●
ii	●
iii	●
iv	●

Alat Pernapasan	
● Saat dewasa menggunakan paru-paru dan kulit	
● Insang	
● Kulit	
● Trakea	

10. Perhatikan gambar berikut!



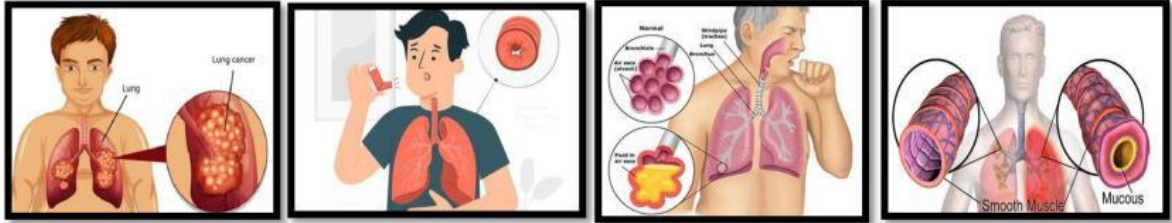
Berdasarkan gambar di samping, pasangkanlah huruf gambar yang sesuai ciri/fungsi yang dimiliki!

Huruf gambar	
a	●
b	●
c	●
d	●

Ciri/fungsi	
● percabangan dari trakea serta terdiri atas kiri dan kanan	
● terdapat jaringan yang disebut silia yang akan bergerak dan mendorong keluar debu-debu dan bakteri yang masuk.	
● terdapat rambut-rambut pendek dan tebal untuk menyaring dan menangkap kotoran yang masuk bersama udara	
● terdapat di bagian belakang faring yang terdiri atas sembilan susunan tulang rawan	

berbentuk kotak

11. Perhatikan gambar berikut!



(a)

(b)

(c)

(d)

Berdasarkan gambar di atas, pasangkanlah huruf gambar sesuai dengan penyebab utamanya !

Gambar	
a	●
b	●
c	●
d	●

Penyebab	
●	Alergi oleh debu, bulu atau perubahan cuaca
●	Kebiasaan merokok
●	Infeksi pada cabang batang tenggorokan.
●	<i>Mycobacterium tuberculosis</i>

12. Perhatikan gambar di bawah ini!



(a)

(b)

(c)

(d)

Berdasarkan gambar di atas, pasangkanlah huruf gambar dengan cara memelihara organ pernapasan yang sesuai!

Gambar	
a	●
b	●
c	●
d	●

Cara memelihara organ pernapasan	
●	Menjaga kesehatan organ pernapasan
●	Menghindari zat yang dapat merusak organ pernapasan
●	Menjaga kesehatan lingkungan sekitar
●	Menjaga kesehatan organ pernapasan

D. ISIAN SINGKAT

Isilah titik-titik berikut ini dengan jawaban yang tepat ! (untuk menjawab soal nomor 13 dan 14)



(A)



(B)

13. Berdasarkan gambar (A) di atas, merupakan jenis kegiatan ekonomi di bidang
14. Pada gambar (B), merupakan jenis kegiatan ekonomi di bidang peternakan yang dapat menghasilkan bahan makanan berupa
15. Bacalah teks berikut !
Setiap orang akan melakukan kegiatan ekonomi untuk memenuhi kebutuhan hidup. Ada yang menjadi petani, pedagang, nelayan, pegawai swasta, pegawai negeri, tenaga medis, pengusaha, dan lainnya. Berdasarkan teks di atas, Meskipun berbeda, setiap kegiatan usaha ekonomi harus kita
16. Perhatikan gambar di bawah ini!



Berdasarkan gambar di samping, merupakan kegiatan ekonomi dalam tahap

E. URAIAN

Jawablah pertanyaan berikut dengan tepat!

Bacalah ilustrasi di bawah ini ! (untuk menjawab soal nomor 17 dan 18)

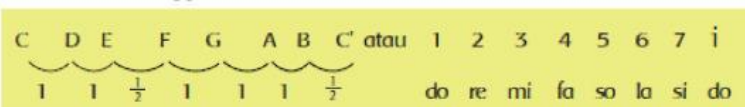


Pada hari Minggu, warga di daerah tempat tinggal Edo mengadakan kerja bakti. Mereka membersihkan sampah-sampah yang menumpuk. Selama ini bau busuk dari tumpukan sampah telah mencemari udara di lingkungan tempat tinggal itu. Warga harus menutup hidung saat melewati tumpukan sampah.

Dalam kegiatan musyawarah dan kerja bakti itu seluruh warga ikut berperan serta. Keikutsertaan warga dalam musyawarah dan kerja bakti merupakan salah satu bentuk tanggung jawab warga dalam menjaga kebersihan lingkungan. 4 bentuk hak yang dapat diterima oleh warga negara di

lingkungan tersebut !

- a.
- b.
- c.
- d.
18. Berdasarkan ilustrasi di atas tuliskan 4 bentuk kewajiba yang dapat diterima oleh warga negara di lingkungan tersebut !
- a.
- b.
- c.
- d.
19. Perhatikan tangga nada diatonis berikut!



Berdasarkan urutan tangga nada diatonis di atas, tuliskan 3 ciri-ciri tangga nada diatonis tersebut beserta salah satu contoh judul lagu nasional!

- a.
- b.
- c.

Contoh judul lagu nasional :

20. Perhatikan gambar tarian di bawah ini!



(A)



(B)



(C)



(D)

Berdasarkan gambar tarian di atas, tuliskan nama properti tari serta asal daerahnya!

- Gambar A, Properti tari, asal daerah
- Gambar B, Properti tari, asal daerah
- Gambar C, Properti tari, asal daerah
- Gambar D, Properti tari, asal daerah