

LEMBAR KERJA PESERTA DIDIK

“ POLA KERUANGAN DESA ”

Petunjuk :

1. Lembar Kerja Peserta Didik (LKPD) ini terdiri dari 5 bagian
2. Kerjakan semua soal dengan mencermati dan mengikuti petunjuk mengerjakan yang tersedia di setiap bagian
3. Klik Finish untuk mengirim jawaban
4. Selamat mengerjakan!

A. Berikut ini ada pernyataan yang harus kalian konfirmasi kebenarannya. Klik pada kata “Benar” jika pernyataan tersebut benar atau pada kata “Salah” jika pernyataan tersebut salah!

Struktur perekonomian di desa adalah agraris, sedangkan di kota struktur perekonomiannya non-agraris	BENAR	SALAH
Cuaca dan iklim tidak mempengaruhi aktivitas hidup masyarakat baik di pedesaan maupun di perkotaan	BENAR	SALAH
Sifat kelompok sosial di desa adalah <i>gesselschaft</i> sedangkan di kota bersifat <i>gemeinschaft</i>	BENAR	SALAH
Desa merupakan suatu kesatuan hukum dan di dalamnya bertempat tinggal sekelompok masyarakat yang berkuasa mengadakan pemerintahan sendiri	BENAR	SALAH
Dalam pembangunan wilayahnya desa corak kehidupannya bersifat paguyuban	BENAR	SALAH
Satu kesatuan kehidupan (living unit) di desa meliputi daerah, penduduk dan tata kehidupan, yang ketiganya merupakan unsur utama desa	BENAR	SALAH

B. Klasifikasikan potensi desa berikut ini dengan menarik (drag) dan melepaskan (drop) jenis-jenis potensi desa sesuai dengan kelompok yang tepat!

	Potensi Fisik	Potensi Non-fisik	
Manusia			Tanah
Gotong Royong			Aparatur desa
Ternak			Iklim
Lembaga Sosial			Air





C. Pada bagian ini kalian diminta untuk mengklasifikasikan desa berdasarkan tahap perkembangannya. Hubungkan dengan membuat garis menggunakan icon pensil yang tersedia di deskripsi ciri desa ke arah jenis-jenis desa yang tersedia!

<ul style="list-style-type: none"> ▪ Mata pencaharian homogen (agraris) ▪ Tradisional dan tertutup ▪ Tidak adanya perangkat desa ▪ Hubungan antar masyarakat sangat erat ▪ Sarana dan prasarana kurang ▪ Pendidikan rendah 	Swakarya
Merupakan tipe desa pada masyarakat suku terasing. Kehidupan masih bergantung pada alam. Penduduk cenderung tertutup serta kurang komunikatif dengan daerah lain	Swasembada
<ul style="list-style-type: none"> ▪ Mata pencaharian heterogen ▪ Teknologi dan pendidikan tinggi ▪ Mulai mengembangkan hasil panen ▪ Adat sudah terlepas penuh ▪ Sarana dan prasarana sudah lengkap dan modern 	Tradisional
<ul style="list-style-type: none"> ▪ Sudah adanya pengaruh dari luar ▪ Adat istiadat mulai longgar ▪ Produktivitas mulai meningkat ▪ Sarana dan prasarana mulai meningkat ▪ Lembaga sosial dan pemerintahan mulai berfungsi 	Swadaya

D. Isilah kotak-kotak jawaban di bawah ini dengan tepat

- Desa mempunyai masalah khusus atau keterbatasan tertentu misalnya keterbatasan SDA dan SDM. Hal ini merupakan klasifikasi desa
- Desa yang sebagian besar masyarakatnya bermata pencaharian sebagai petani. Hal ini merupakan klasifikasi desa
- Desa yang dekat atau mudah berhubungan dengan kota dan kegiatan ekonominya tidak bergantung pada sektor perimer atau agraris saja.
Hal ini merupakan klasifikasi desa
- Desa besar adalah desa yang berpenduduk sampai jiwa
- Desa kecil adalah desa yang luasnya sampai km²

E. Pada bagian ini kalian diminta untuk mengidentifikasi pola keruangan desa. Pilihlah salah satu jawaban yang sesuai dengan mengklik salah satu jawaban yang tersedia dengan sistem drop down!

Gambar pola	Jenis pola permukiman desa
	<input type="text"/>
	<input type="text"/>
	<input type="text"/>
	<input type="text"/>