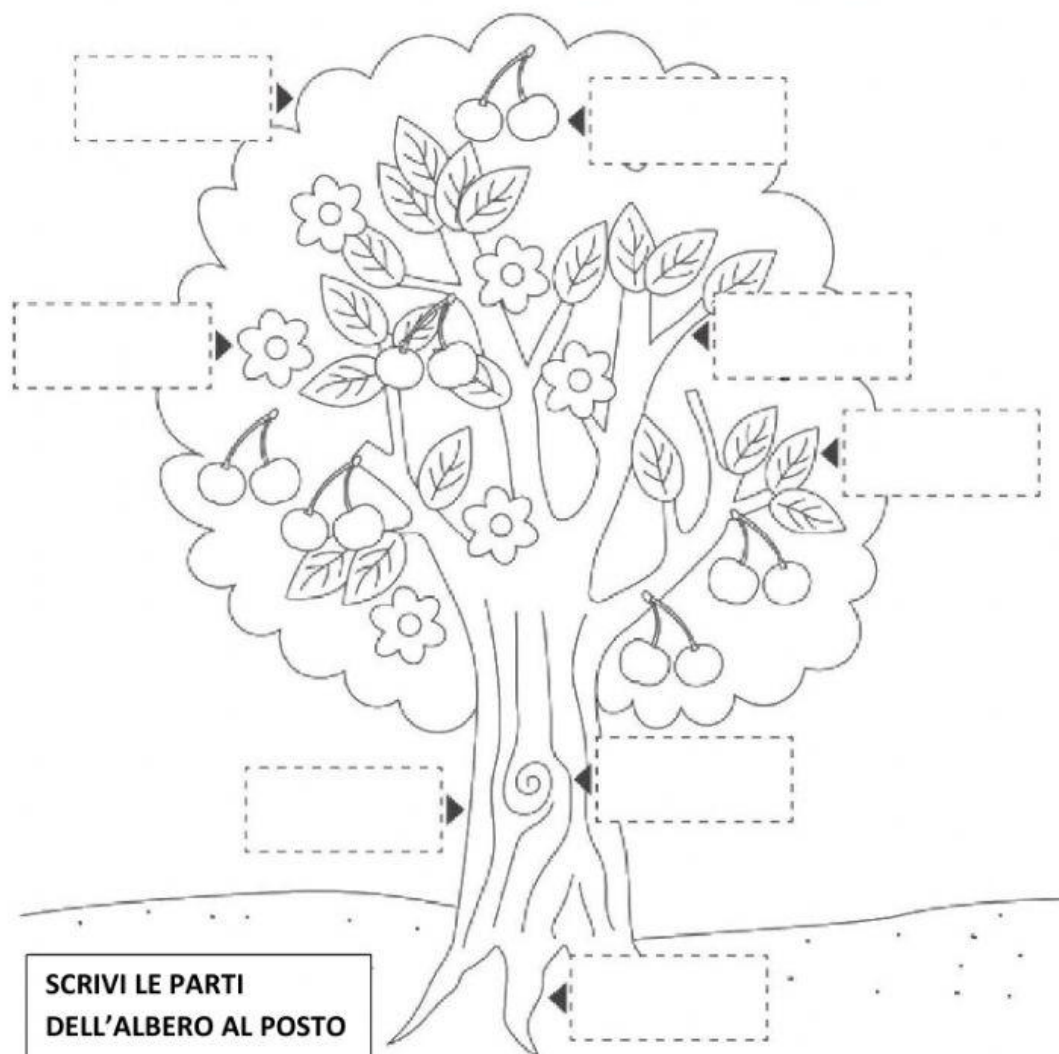


VERIFICA DI SCIENZE: LE PIANTE

LE PARTI DELL'ALBERO



FRUTTO

CORTECCIA

RADICI

FOGLIE

FUSTO

RAMI

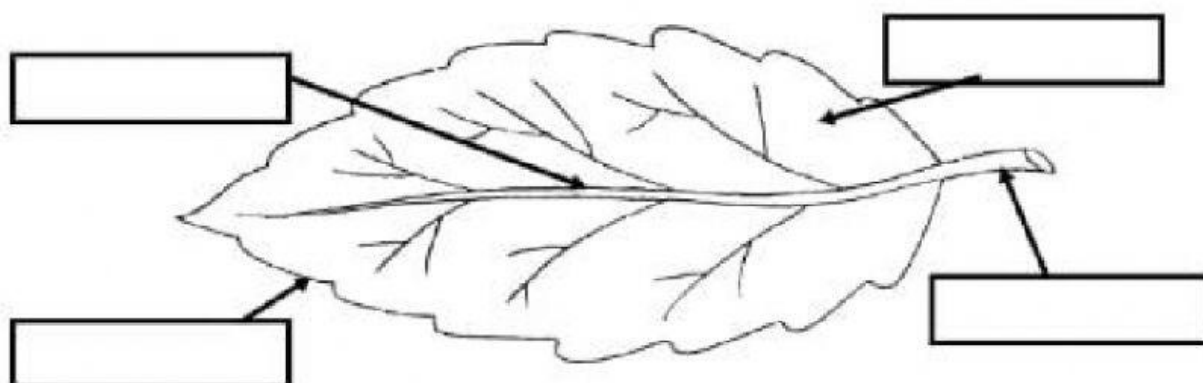
FIORI

CHIOMA

www.fantavolando.it


SCRIVI AL POSTO GIUSTO I NOMI DELLE PARTI DELLA FOGLIA.

PICCIOLO – NERVATURE – MARGINE - LAMINA



CLASSIFICAZIONE IN BASE ALLA FORMA: SCRIVI IL NOME SOTTO LA FOGLIA CORRISPONDENTE

AGHIFORME – CUORIFORME - LANCEOLATA



RISPONDI SEGNANDO CON UNA CROCETTA LA RISPOSTA ESATTA: VERO (V) O FALSO (F).

IL FUSTO SOSTIENE LA PIANTA, MA NON TRASPORTA IL NUTRIMENTO IN TUTTE LE SUE PARTI.	V	F
LE RADICI FISSANO LA PIANTA AL TERRENO E ASSORBONO ACQUA E SALI MINERALI	V	F
I FIORI NASCONO DAI FRUTTI	V	F
IL POLLINE SERVE PER LA NASCITA DEL FRUTTO	V	F
I RAMI SOSTENGONO LE FOGLIE, I FIORI E I FRUTTI	V	F
IL SEME DEI FRUTTI NON SERVE A NULLA	V	F

