



**PEMERINTAH KABUPATEN SINJAI
DINAS PENDIDIKAN
SD NEGERI NO. 56 TALLE**

Alamat : Dusun Salohe Desa Kanrung Kec. Sinjai Tengah

**PENILAIAN TENGAH SEMESTER (PTS)
TAHUN PELAJARAN 2023 / 2024**

Tema : 2. Udara Bersih bagi Kesehatan
Kelas/Semester : V (Lima) / 1
Waktu : 90 menit

Nama Peserta Didik :
Hari / Tanggal :

1. Perhatikan teks dan gambar di bawah ini !

Tanggung jawab merupakan salah satu nilai karakter bangsa yang diharapkan tertanam pada setiap individu, terutama peserta didik. Tanggung jawab adalah sikap dan perilaku seseorang untuk melaksanakan tugas dan kewajibannya, yang seharusnya dia lakukan, baik terhadap diri sendiri, keluarga, masyarakat, lingkungan (alam, sosial, dan budaya), negara, maupun Tuhan Yang Maha Esa.



Gambar di atas yang menunjukkan bentuk Tanggung Jawab dalam lingkungan masyarakat adalah

- a. 1 dan 3
- b. 1 dan 4
- c. 2 dan 3
- d. 2 dan 4

2. Perhatikan teks berikut !

Hak berarti sesuatu yang mutlak menjadi milik seseorang dan penggunaannya tergantung kepada orang yang bersangkutan. Jadi, hak warga masyarakat adalah sesuatu yang mutlak menjadi milik seseorang yang berkedudukan sebagai warga masyarakat. Bentuk hak warga masyarakat seperti berikut.

- a. Mendapatkan perlindungan hukum.
- b. Mendapatkan pekerjaan dan penghidupan yang layak.
- c. Menikmati lingkungan bersih.
- d. Hidup tenang dan damai.
- e. Bebas memilih, memeluk, dan menjalankan agama.
- f. Berpendapat dan berorganisasi.
- g. Mengembangkan kebudayaan daerah.

Berdasarkan teks di atas yang **bukan** merupakan bentuk hak sebagai warga masyarakat adalah ...

- a. Mendapatkan perlindungan hukum
- b. Menikmati lingkungan bersih
- c. Hidup tenang dan damai
- d. Mendapatkan pekerjaan dan penghidupan yang tidak layak

3. Perhatikan gambar berikut !



Kegiatan siskamling yang dilakukan setiap malam seperti pada gambar di atas, adalah **sikap tanggung jawab** di

- | | |
|------------|---------------|
| a. Rumah | c. Masyarakat |
| b. Sekolah | d. Negara |

4. Bacalah penggalan teks berikut!

Kuldesak Lantaran Jerebu

Aroma sangat asap dari lahan yang terbakar menusuk hidung warga Pekanbaru, Riau. Pada Selasa pekan lalu, seantero kota diselimuti kabut. Jalanan lengang dan pagi itu meredup lantaran sinar matahari tersaput asap. Kebanyakan penduduk memilih tinggal di rumah. Meski begitu, asap tetap masuk lewat ventilasi. "Tak ada lagi tempat berlindung. Di rumah saja sudah tak aman," ujar Asep Dadan Muhanda kepada Tempo.

Khawatir terhadap kesehatan dua anaknya yang masih kecil, pria 34 tahun itu memboyong keluarganya ke luar kota. Dari rumahnya di Kecamatan Tampan, Asep mengungsi ke tempat sanaknya di Kota Bukittinggi. Apalagi sekolah dasar anak sulungnya diliburkan hingga waktu yang tak pasti. Hampir semua sekolah di Pekanbaru telah diliburkan sejak awal September lalu.

Berilah tanda centang (✓) pada kalimat tanya yang sesuai dengan paragraf ke dua teks di atas!

- ☐ Siapa nama narasumber yang memboyong keluarganya ke luar kota ?
- ☐ Dimana Narasumber membawa keluarganya mengungsi ?
- ☐ Dimana kebakaran itu terjadi ?
- ☐ Apa Penyebab asap di Riau ?

5. *Indonesia merupakan negara kepulauan yang terdiri dari ribuan pulau tersebar diseluruh nusantara. Bentuk negara ini membuat Indonesia menjadi negara yang kaya akan keberagaman. Perbedaan suku, budaya, serta agama bukanlah penyebab terjadinya perpecahan. Keberagaman tersebut justru menjadikan Indonesia menjadi negara yang kaya dan lebih unggul dari pada negara lain.*

Beri tanda centang (✓) di depan jawaban yang tepat berdasarkan bacaan di atas !

- ☐ Indonesia merupakan negara kepulauan
- ☐ Indonesia kaya akan keragaman
- ☐ Indonesia terdiri atas suku, budaya dan agama yang berbeda-beda
- ☐ Indonesia merupakan negara terbesar di dunia

6. Bacalah teks berikut !

Bronkitis adalah penyakit peradangan pada Bronkus atau saluran yang mengalirkan udara ke paru-paru. Bronkitis dapat disebabkan oleh serangan virus, bakteri, atau menghirup zat-zat kimia, misalnya asap rokok dan asap polusi kendaraan. Bronkitis juga dapat terjadi karena komplikasi penyakit lain seperti influenza dan campak. Gejala-gejala penyakit tersebut yaitu batuk berdahak, demam ringan, dan cepat lelah.

Berilah tanda centang (✓) pada kalimat tanya yang tepat untuk bacaan diatas! (bisa memilih lebih dari satu jawaban)





- ☐ Mengapa pasien bronkitis yang mengalami gejala berat harus segera mendapat perawatan ?
- ☐ Mengapa Bronkitis itu dapat terjadi ?
- ☐ Apa saja gejala-gejala penyakit bronkitis
- ☐ Apa penyebab penyakit bronkitis ?

7. Bacalah teks berikut !

Pernapasan pada Hewan

Seperti manusia, hewan juga bernapas untuk mengambil oksigen dan membuang karbon dioksida. Namun, sistem pernapasan pada hewan berbeda dari manusia. Bahkan, sistem pernapasan pada hewan pun berbeda-beda sesuai jenisnya. Ada yang bernapas menggunakan permukaan kulit, paru-paru, insang, dan trakea.

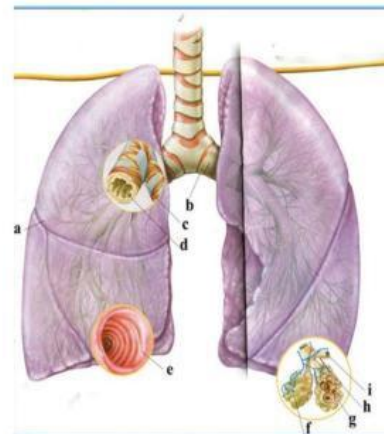
Pasangkanlah nama hewan dibawah ini dengan organ pernapasan yang digunakan dengan benar !

	●	●	Paru paru dan kulit
	●	●	Paru paru dan kantung udara
	●	●	permukaan kulit
	●	●	Paru paru

8. Hubungkanlah gambar organ pernapasan manusia berikut sesuai dengan gambar !

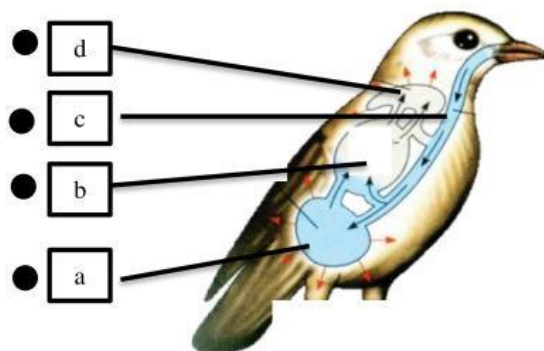
- Paru – paru kanan ●
- Ruang udara dalam bronkus ●
- Bronkus kiri ●
- Bagian dalam bronkus ●
- Otot – otot dinding ●

- b
- c
- d
- a
- e



9. Hubungkanlah gambar organ pernapasan pada burung berikut sesuai dengan gambar !

- Paru - paru ●
- Kantong udara posterior ●
- Trakea ●
- Kantong udara anterior ●



10. Bu Ana bergabung dalam suatu usaha. Usaha tersebut memiliki simpanan pokok dan simpanan wajib. Usaha yang diikuti Bu Ana memiliki prinsip dan tujuan untuk mensejahterakan anggotanya.
Jenis usaha ekonomi yang diikuti Bu Ana adalah

11. Perhatikan gambar berikut!



Manusia melakukan jenis kegiatan untuk memenuhi kebutuhan. Salah satu contoh bentuk kegiatan bercocok tanam dan memanen hasil pertanian adalah bentuk kegiatan dibidang

12. **Bacaan**

Kegiatan produksi adalah kegiatan yang menghasilkan barang untuk memenuhi kebutuhan hidupnya, contohnya membuat baju. Baju terbuat dari kain yang berasal dari tanaman kapas, kapas di produksi menjadi benang menjadi kain. Orang yang melakukan kegiatan produksi disebut produsen. Setelah barang di produksi kegiatan selanjutnya adalah menyalurkan (distribusi) barang-barang tersebut kepada konsumen (pemakai).

Kegiatan yang menghasilkan barang untuk memenuhi kebutuhan hidupnya disebut

13. Perhatikan teks informasi berikut ini !

Tangga Nada Diatonis

Tangga nada merupakan susunan berjenjang, misalnya do, re, mi, fa, sol, la, si, do. Dalam seni musik ada jenis tangga nada diatonis. Tangga nada diatonis terdiri atas delapan nada. Tangga nada diatonis dibagi lagi dalam dua jenis tangga nada, yaitu tangga nada mayor dan tangga nada minor. Tangga nada diatonis mayor memiliki interval (jarak nada) 1 1 $\frac{1}{2}$ 1 1 $\frac{1}{2}$, Bersifat riang gembira, Bersemangat, Biasanya diawali dan diakhiri nada do. Namun, tidak menutup kemungkinan diawali dengan nada 5 atau 3 dan diakhiri nada 1.

Tangga nada diatonis minor memiliki interval (jarak nada) 1 $\frac{1}{2}$ 1 1 $\frac{1}{2}$ 1 1 . Tangga nada diatonis minor ada bermacam-macam. Salah satunya tangga nada diatonis minor harmonis. Tangga nada diatonis minor harmonis adalah tangga nada diatonis minor dengan nada ketujuh dinaikkan setengah. Lagu bersifat sedih, Lagu kurang bersemangat, Melodi lagu biasanya diawali dan diakhiri nada 6. Namun tidak menutup kemungkinan diawali nada 3 dan diakhiri nada 6.

Tuliskan ciri-ciri tangga nada minor berdasarkan bacaan di atas!

Jawab :
.....
.....

14. Perhatikan petikan teks lagu berikut !

Hari Merdeka

Do = Es
Allegro Con brio

Pencipta: H. Mutahar

0 5 5 5 3 3 3 3 2 3 4 2

Tu - juh be - las A - gus - tus ta - hun Em - pat

1 5 0 5 5 5 5 5 5 5

li - ma I - tu - lah ha - ri Ke - mer-

4 5 6 4 3 0 1 1 1 6 6

de - ka - an ki - ta Ha - ri Mer-de - ka

0 4 5 6 5 3 0 5 5 5 1 1 1 1

Nu - sa dan bang-sa Ha - ri la - hir - nya bang - sa

Identifikasilah ciri-ciri notasi lagu “Hari Merdeka” di atas, apakah termasuk tangga nada diatonis mayor atau minor ? Jelaskan !

Jawab:

.....

.....

15. Perhatikan gambar tari berikut ini !



Gambar 1



Gambar 2

Properti adalah alat atau benda-benda yang digunakan untuk sebuah pertunjukan tari.

Tuliskan properti yang digunakan pada 2 jenis tari pada gambar di atas !

Jawab :

.....

Selamat Bekerja