



**PEMERINTAH KABUPATEN SINJAI
DINAS PENDIDIKAN
SD NEGERI NO. 56 TALLE**

Alamat : Dusun Salohe Desa Kanrung Kec. Sinjai Tengah

**PENILAIAN TENGAH SEMESTER (PTS)
TAHUN PELAJARAN 2023 / 2024**

Tema / Subtema : 1. Organ Gerak Hewan dan Manusia
Kelas/Semester : V (Lima) / 1
Hari / Tanggal :

Nama Peserta Didik :

Bacalah bacaan berikut untuk menjawab soal nomor 1 dan 2 !

Organ Gerak Manusia dan Hewan

Salah satu ciri dari makhluk hidup adalah bergerak. Secara umum, gerak dapat diartikan berpindah tempat atau perubahan posisi sebagian atau seluruh bagian dari tubuh. Makhluk hidup akan bergerak apabila ada rangsangan yang mengenai sebagian atau seluruh bagian tubuhnya.

Gerak pada manusia dan hewan menggunakan organ gerak yang tersusun dalam sistem gerak. Organ gerak berguna untuk berjalan, berlari, melompat, meloncat, memegang, menggali, memanjat, berenang, dan sebagainya.

Organ gerak pada hewan dan manusia memiliki kesamaan. Alat-alat gerak yang digunakan pada manusia dan hewan ada dua macam, yaitu alat gerak pasif berupa tulang dan alat gerak aktif berupa otot. Kedua alat gerak ini akan bekerja sama dalam melakukan pergerakan. Kerja sama antara kedua alat gerak tersebut membentuk suatu sistem yang disebut sistem gerak.

1. Berilah tanda centang (✓) pada kolom **Benar** atau kolom **Salah** dari pernyataan berikut yang sesuai bacaan di atas!


Pernyataan	Benar	Salah
Bergerak merupakan salah satu ciri makhluk hidup.		
Organ gerak hewan dan manusia memiliki kesamaan.		
Tulang merupakan alat gerak aktif.		
Organ gerak digunakan untuk berlari, berjalan, dan memegang.		

2. Tuliskan ide pokok paragraf ketiga dari bacaan di atas?
Jawaban:


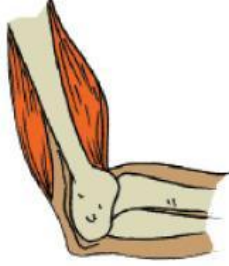

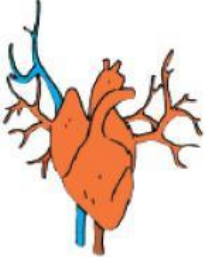
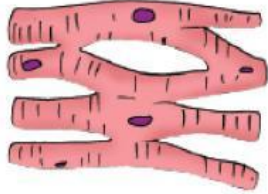
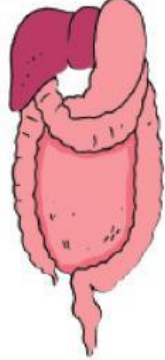
.....
.....

3. Kalimat tanya yang sesuai dengan isi paragraf pertama pada bacaan di atas adalah
- Kapan makhluk hidup dapat bergerak?
 - Berapa makhluk hidup dapat bergerak?
 - Siapa yang dapat menggerakkan makhluk hidup?
 - Apa yang dapat menggerakkan makhluk hidup?

4. Organ gerak hewan pada gambar berikut adalah



5. Pasangkanlah gambar-gambar otot manusia berikut sesuai dengan letaknya dalam tubuh manusia dengan tepat!

Gambar Otot Manusia	Letaknya dalam tubuh manusia
	
	
	

6. Perhatikan gambar di samping !
 Kelainan tulang pada gambar di samping disebut
 a. Kifosis c. skoliosis
 b. Lordosis d. Osteoporosis



7. Pasangkanlah dengan menghubungkan garis antara pernyataan yang mencerminkan pengamalan nilai-nilai Pancasila dengan sila-sila Pancasila yang sesuai !

SILA I	Menggunakan hak pilih dalam pemilu
SILA II	Mempersilahkan teman untuk melaksanakan peribadahan
SILA III	Menganggap pembantu sebagai bagian dari anggota keluarga
SILA IV	Mengadili pelanggar hukum sesuai dengan undang-undang
SILA V	Menjenguk teman yang sakit

8. Pada suatu hari Joko mengikuti ulangan harian bersama teman-temannya. Joko melihat teman sebangku yang sedang menyontek. Temannya tersebut mengancam Joko untuk tidak melaporkan ke gurunya, Joko tetap menegaskan kebenaran dengan melaporkan perbuatan temannya.
Sikap yang dilakukan Joko sesuai pengamalan Pancasila sila ke
9. Berilah tanda centang (✓) pada gambar yang menunjukkan perilaku yang sesuai dengan nilai-nilai Pancasila dan tanda silang (×) pada gambar yang menunjukkan perilaku yang tidak sesuai dengan nilai-nilai Pancasila !



10. Amatilah gambar peta negara Indonesia berikut !

Peta Kondisi Geografis Negara Indonesia



Berilah tanda centang (✓) pada kolom pernyataan berikut yang sesuai dengan gambar peta di atas!

- ☐ Wilayah Negara Indonesia terletak diantara Samudera Pasifik dan Samudera Hindia.
- ☐ Pulau Kalimantan terletak di sebelah timur Pulau Sulawesi.
- ☐ Indonesia memiliki lima pulau besar.
- ☐ Batas wilayah pulau Sulawesi sebelah barat adalah Selat Makassar.

11. Amatilah gambar di samping !



Kenampakan alam yang dapat ditemukan pada gambar di samping adalah

12. Amatilah gambar kenampakan alam yang ada pada nomor 11 di atas!


Tuliskan 3 nama gunung yang terdapat di Pulau Sulawesi !

Jawab:

.....

.....

13. Perhatikan gambar berikut !



Tuliskan langkah selanjutnya untuk membuat komik dari gambar tersebut !

Jawab :

14. Pasangkan jenis corak gambar cerita atau ilustrasi berikut berdasarkan pengertiannya !

Gambar yang melebih-lebihkan atau mengubah dari objek aslinya.	●	●	Realis
Gambar yang disajikan dengan mengubah bentuk objek aslinya namun tanpa menghilangkan ciri-ciri khasnya.	●	●	Karikatur
Gambar yang berfungsi untuk menghibur dan berisikan Humor.	●	●	Kartun
Gambar yang dibuat seperti keadaan aslinya, baik bentuk, ukuran, dan tata letaknya	●	●	dekoratif

15. Perhatikan gambar berikut !



Media pewarna ilustrasi di atas yang biasa digunakan anak SD adalah . . .

- a. arang, kapur
b. cat air, cat akrilik
c. krayon, pensil warna
d. arang, cat minyak

Selamat Bekerja