




**QUESTÃO 6:** ESCREVA OS NUMERAIS QUE A PROFESSORA IRÁ DITAR:

--	--	--	--	--




**QUESTÃO 7:** OBSERVE AS QUANTIDADES E PREENCHA O GRÁFICO DAS GULOSEIMAS:



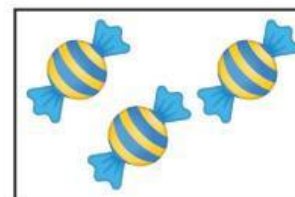
PICOLÉ




CHOCOLATE

PIRULITO

BALA






**QUESTÃO 8:** LIGUE AS FORMAS GEOMÉTRICAS ÀS CORES PEDIDAS:



CÍRCULO = VERMELHO



TRIÂNGULO = VERDE



QUADRADO = AZUL



RETÂNGULO = AMARELO

