



PEMERINTAH KABUPATEN SINJAI
DINAS PENDIDIKAN
SD NEGERI NO.56 TALLE

Alamat : Poros Sinjai Malino Kec.Sinjai Tengah

PENILAIAN TENGAH SEMESTER 1 KELAS VI T.P. 2023 / 2024

Mata Pelajaran : Tema 1

Nama :

Waktu : 60 Menit

No. Absen :

A. BAHASA INDONESIA (PILAHAN GANDA)

Perhatikan bacaan berikut untuk menjawab soal nomor 1 dan 2!

Salah satu negara yang mata pencaharian penduduknya sebagai peternak adalah Laos. Tentu kamu sudah tahu bahwa Laos juga termasuk negara anggota ASEAN, bukan? Laos terletak di Semenanjung Indocina. Pekerjaan di bidang peternakan hanya salah satu kegiatan ekonomi di Laos dan bukan mata pencaharian utama penduduknya. Hasil ternak Laos antara lain sapi, babi, unggas, dan kerbau.

1. Ide pokok paragraf di atas adalah
 - a. Mata pencaharian Laos adalah beternak
 - b. Laos termasuk anggota ASEAN
 - c. Laos terletak di Semenanjung Indocina
 - d. Sapi merupakan salah satu hasil ternak Laos
2. Hal berikut yang tidak sesuai dengan bacaan di atas adalah
 - a. Beternak merupakan mata pencaharian Laos
 - b. Salah satu hasil ternak Laos adalah kerbau
 - c. Laos tidak termasuk anggota ASEAN
 - d. Laos merupakan negara yang terletak di Semenanjung Indocina

Bacalah teks berikut!

Jagung merupakan salah satu tanaman yang dijadikan bahan makanan pokok di berbagai negara, salah satunya di Indonesia. Di Indonesia, penduduk Pulau Madura menjadikan jagung sebagai makanan pokoknya. Jagung merupakan salah satu tanaman penghasil karbohidrat yang sangat diperlukan oleh tubuh.

3. Kesimpulan dari bacaan di atas adalah ...
 - a. Pulau Madura menjadikan jagung sebagai makanan pokok karena jagung merupakan penghasil karbohidrat yang sangat dibutuhkan oleh tubuh.
 - b. Jagung merupakan salah satu tanaman penghasil karbohidrat yang sangat diperlukan oleh tubuh
 - c. Jagung merupakan salah satu tanaman yang dijadikan bahan makanan pokok di berbagai negara.
 - d. Di Indonesia, penduduk Pulau Madura menjadikan jagung sebagai makanan pokoknya.

B. IPA (PILIHAN GANDA KOMPLEKS)


4. Perhatikan contoh tanaman yang berkembangbiak secara generatif dan vegetatif berikut!



Berilah tanda centang (✓) pada kolom **BENAR/ SALAH** sesuai pernyataan berikut berdasarkan gambar di atas!

NO	PERNYATAAN	BENAR	SALAH
1	Kacang tanah berkembangbiak secara vegetatif		
2	Mentimun berkembangbiak secara generatif		
3	Rambutan berkembangbiak secara generatif		
4	Wortel berkembangbiak secara vegetatif		

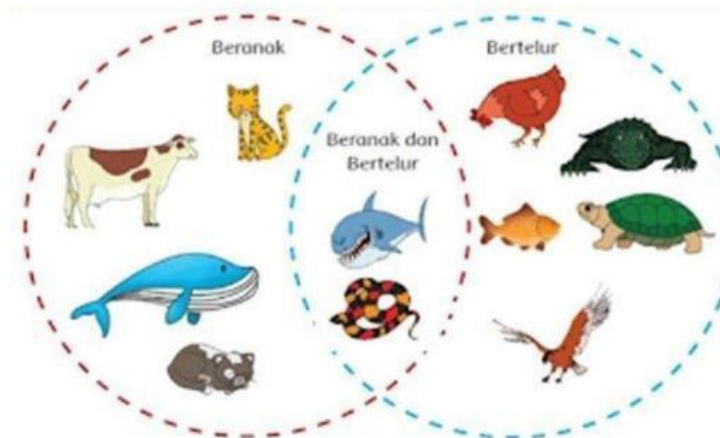
5. Perhatikan gambar berikut!



Berilah tanda centang (✓) pada kolom **BENAR/ SALAH** sesuai pernyataan berikut berdasarkan gambar di atas!

NO	PERNYATAAN	BENAR	SALAH
1	Cecak berkembangbiak secara ovipar		
2	Kuda dan ayam berkembangbiak dengan cara vivipar		
3	Ular berkembangbiak dengan cara ovovivipar		

Cermati gambar berikut kemudian kerjakan (soal no. 6)



Hewan berkembang biak dengan tiga cara bertelur (ovipar), beranak (vivipar), dan bertelur beranak (ovovivipar).

6. Berilah tanda ceklis (✓) Pernyataan yang sesuai dengan gambar di atas, kamu dapat memilih lebih dari satu jawaban

- ☐ Kura-kura dan ikan dengan cara ovipar
- ☐ Ayam dan burung dengan cara vivipar
- ☐ Hiu dan ular dengan cara ovovivipar
- ☐ Ayam dan burung dengan cara vivipara

C. PKN (MENJODOHKAN)

7. Amatilah gambar-gambar berikut!



GAMBAR



GAMBAR 2



GAMBAR 3




GAMBAR 4

Pasangkanlah dengan tepat perilaku yang mencerminkan pengamalan sila pancasila di atas!






GAMBAR 1	●	●	SILA 1
GAMBAR 2	●	●	SILA 2
GAMBAR 3	●	●	SILA 3
GAMBAR 4	●	●	SILA 4

8. Perhatikan gambar dan bunyi pancasila berikut!




1. Ketuhanan yang Maha Esa
2. Kemanusiaan yang adil dan beradab
3. Persatuan Indonesia
4. Kerakyatan yang dipimpin oleh hikmat kebijaksanaan dalam permusyawaratan/perwakilan
5. Keadilan sosial bagi seluruh rakyat Indonesia



Pasangkanlah bunyi sila pancasila berikut dengan symbol pancasila yang sesuai!

Ketuhanan Yang Maha Esa	●	●	
Kemanusiaan yang adil dan beradab	●	●	
Persatuan Indonesia	●	●	
Kerakyatan yang dipimpin oleh hikmat kebijaksanaan dalam permusyawaratan perwakilan	●	●	
Keadilan sosial bagi seluruh rakyat Indonesia	●	●	

9. Pasangkanlah dengan tepat perilaku yang mencerminkan pelaksanaan sila ke. 4 pancasila di bawah !

Tidak memaksakan kehendak	●	●	
Bermusyawarah	●	●	
Mengutamakan kepentingan orang banyak	●	●	

D. SBdP (ISIAN)

Perhatikan gambar patung berikut untuk menjawab soal nomor 10 dan 12!



10. Pembuatan patung dari tanah liat seperti gambar di atas melalui proses *Pembakaran Patung*, hal tersebut bertujuan agar karya patung menjadi
11. Tanah liat digunakan sebagai bahan dasar pembuatan patung di atas, dengan menggunakan teknik
12. Karya seni atau Desain grafis yang berisi komposisi gambar dan huruf yang menarik disebut

E. IPS (URAIAN)

13. Tuliskan 5 negara di ASEAN beserta Ibukotanya!
14. Uraikan 3 manfaat laut bagi kehidupan manusia !
15. Uraikan 3 kegiatan ekonomi negara Brunei Darusallam !